



Adı Soyadı : .....

Numarası : .....

## Konu: Uzunluk Ölçülerini Tahmin Etme Etkinliği

Sınıfımızda bulunan eşyaların uzunluklarını önce tahmin ediniz. Sonra ölçüm yapınız.



Kalemin boyu

Tahmini Sonuç

.....

Ölçme Sonucu

.....



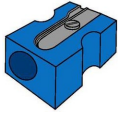
Öğretmen masasının eni

Tahmini Sonuç

.....

Ölçme Sonucu

.....



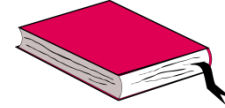
Kalemıraşın boyu

Tahmini Sonuç

.....

Ölçme Sonucu

.....




Kitabın eni

Tahmini Sonuç

.....

Ölçme Sonucu

.....



Silginin boyu

Tahmini Sonuç

.....

Ölçme Sonucu

.....



Sıranın eni

Tahmini Sonuç

.....

Ölçme Sonucu

.....




Kapının boyu

Tahmini Sonuç

.....

Ölçme Sonucu

.....



Yazı tahtasının eni

Tahmini Sonuç

.....

Ölçme Sonucu

.....



Sınıf panosunun eni

Tahmini Sonuç

.....

Ölçme Sonucu

.....



Sınıf dolabının boyu

Tahmini Sonuç

.....

Ölçme Sonucu

.....



Sınıf penceresinin eni

Tahmini Sonuç

.....

Ölçme Sonucu

.....



Bilgisayar ekranının eni

Tahmini Sonuç

.....

Ölçme Sonucu

.....



Suluğun boyu

Tahmini Sonuç

.....

Ölçme Sonucu

.....



Defterin boyu

Tahmini Sonuç

.....

Ölçme Sonucu

.....



Karışımızın boyu

Tahmini Sonuç

.....

Ölçme Sonucu

.....



Sınıf asklığının eni

Tahmini Sonuç

.....

Ölçme Sonucu

.....