




Adı Soyadı :

Numarası :


Konu: Uzunluk Ölçüleri ile İlgili Problemler 5

Aşağıdaki problemleri dikkatlice okuyalım ve cevaplayalım.

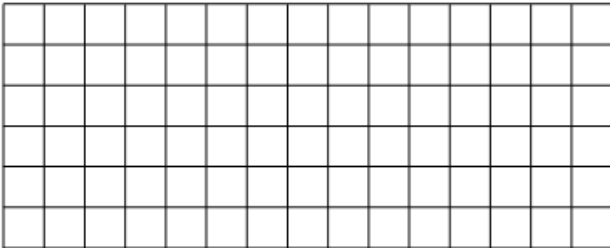
1) Bir terzi 5 metre kumaşın 350 cm'si ile elbise dikmiştir. Terzinin kaç metre kumaş kalmıştır?




2) 7 km'lik yolun önce 2 km 400 m'sini daha sonrada 3 km 547 m'sini yürüyen Arif'in daha yürüyeceği kaç m yolu kalmıştır?




3) Mehmet'in bir adımı 45 cm'dir. Mehmet kaç adım attığında 90 metre yol yürümüş olur?




4) Bir süsleme şeridinin uzunluğu 4 mm olan mavi kurdelelerden 50 tane, uzunluğu 5 mm olan sarı kurdelelerden 70 tane aldım. Bu şeritlerin uzunluğu kaç cm olur?




5) Uçurtma yapmak için Mert, 30 cm çitalardan 5 tane, 50 cm'lik çitalardan 3 tane aldı. Mert uçurtma yapmak için kaç metre çita aldı?



6) 50 cm 7 mm uzunluğundaki bir lastik şerit iki ucundan 8'er mm uzatılıyor. Yeni durumda lastik şeridin uzunluğu kaç mm olur?



7) Yusuf, her biri 6 cm 4 mm kalınlığında olan 15 kutuyu üst üste koydu. Yusuf'un elde ettiği yükseklik kaç santimetredir?



8) Akın amca, bahçesini çevresine 600 cm aralıklarla 50 adet elma fidanı diyor. Buna göre Akın amcanın bahçesinin çevresi kaç metredir?

