



Adı Soyadı :

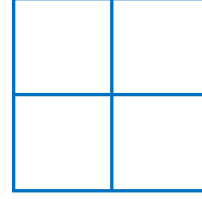
Numarası :

Konu: 5.Ünite Değerlendirmesi

Aşağıdaki soruları dikkatlice okuyalım ve cevaplayalım.

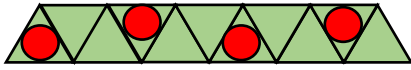


1) Aşağıdaki düzlemsel şekillerden hangisi yukarıdaki geometrik cismin yüzeylerinden biri olamaz?





2) Yukarıdaki şekilde kaç tane kare vardır?

A) 4 B) 5 C) 6



3) Yukarıdaki örüntüde hangi geometrik şekil kullanılmamıştır?

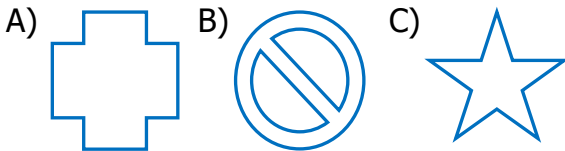
A) Üçgen B) Daire C) Kare



4) Yukarıdaki çizgi modellerinden hangisi doğru parçasıdır?

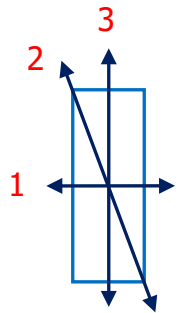
A) I B) II C) III

5) Aşağıdaki şekillerden hangisinin açısı yoktur?



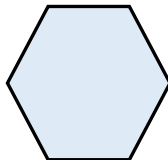
6) Yandaki numaralandırılmış doğru parçalarından hangisi dikdörtgenin simetri doğrusu değildir?

A) 3
B) 2
C) 1

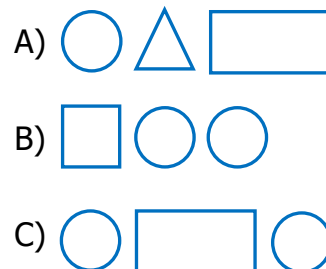


7) Yandaki geometrik şeklin adı nedir?

A) Beşgen
B) Altıgen
C) Sekizgen

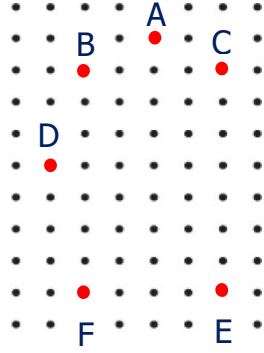


8) Hangi seçenekteki geometrik şekiller bir araya gelirse silindiri oluşturur?



9) Yandaki düzlemde hangi noktaları birleştirecek dikdörtgen elde ederiz?


- A) D, C, E, F
B) B, F, E, C
C) B, A, C, F






A D M H T F

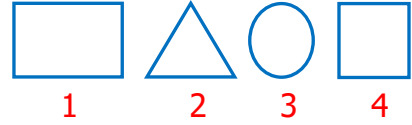
10) Yukarıdaki harflerden kaç tanesi simetrik?

- A) 2 B) 3 C) 4



11) Yukarıdaki örüntü hangi geometrik şekil ile devam etmelidir?


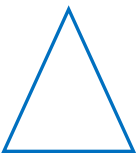

- A)  B)  C) 






12) Yukarıdaki geometrik şekillerden hangilerini cetvel kullanarak çizebiliriz?

- A) 1, 2, 3
B) 2, 3, 4
C) 1, 2, 4

13) Aşağıda verilen geometrik şekillerden hangisinin köşegeni yoktur?

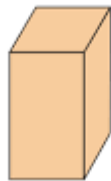
- A)  B)  C) 

14) Aşağıdakilerden hangisi ışın modeli oluşturmaz?


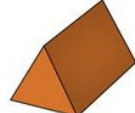
- A)  B)  C) 

15) Aşağıdakilerden hangisi yandaki geometrik cismin özelliği değildir?

- A) 6 yüzü vardır.
B) 10 ayrıtı vardır.
C) 8 köşesi vardır.



16) Aşağıdaki geometrik cisimlerden hangisinin yüz sayısı fazladır?

- A)  B)  C) 