



Adı Soyadı :

Numarası :

Konu: Örüntü Etkinliği

Aşağıdaki örüntülerin kuralını örnekteki gibi yazınız.



Kural: Bir üçgen, iki kare, bir çember



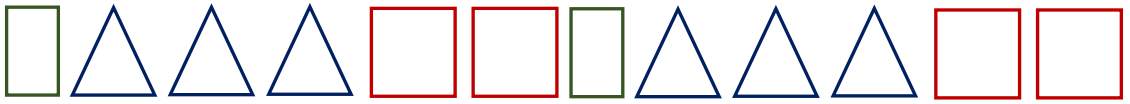
Kural:



Kural:



Kural:



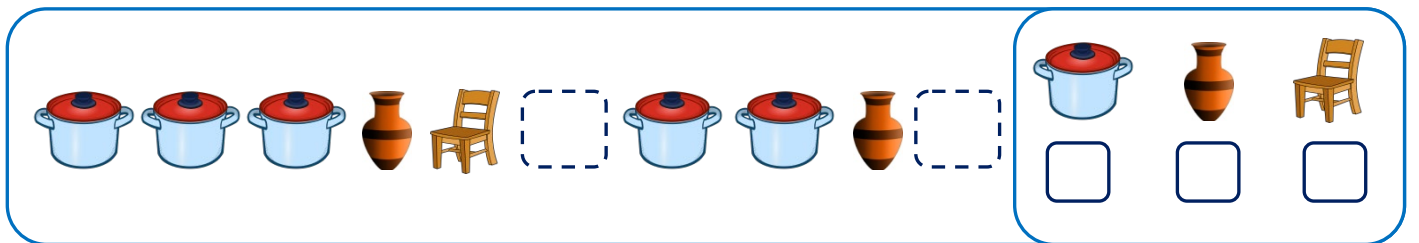
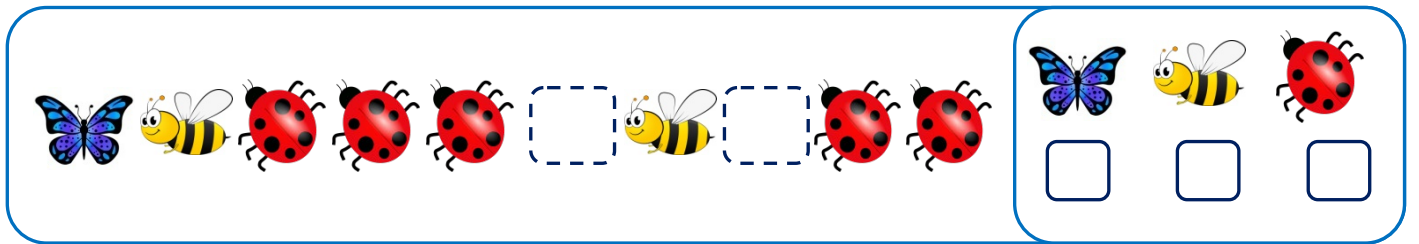
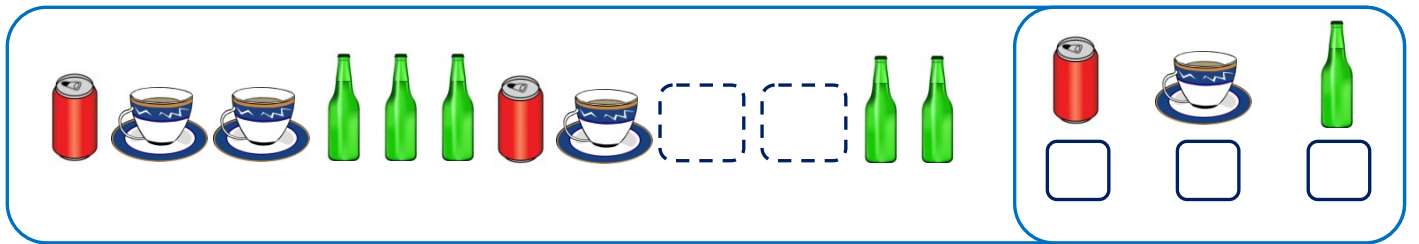
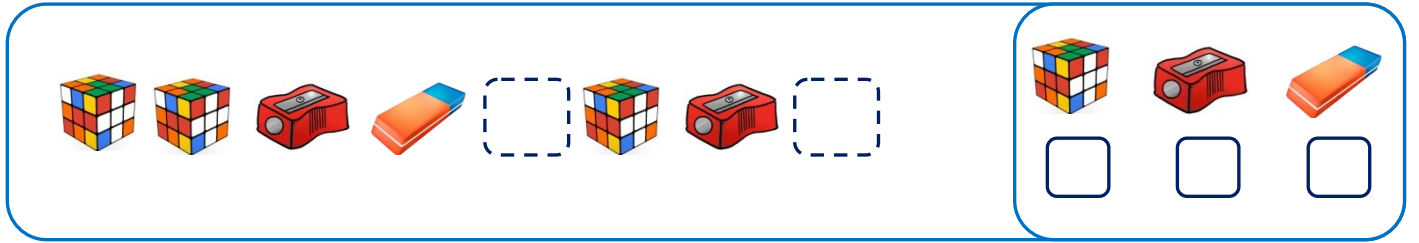
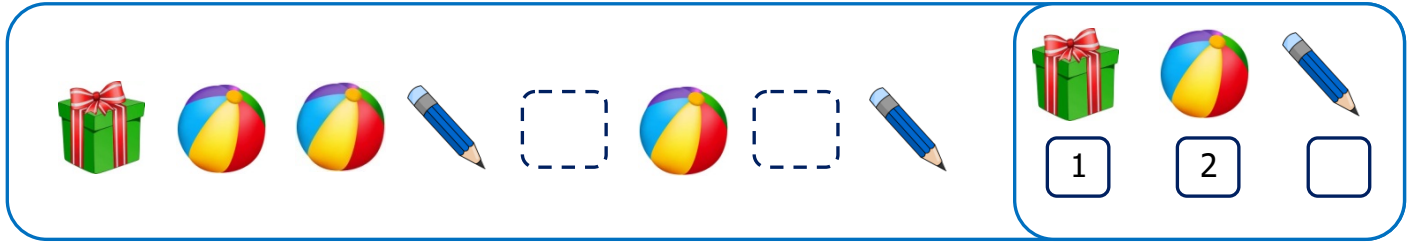
Kural:




Kural:

Aşağıdaki örüntüde rakamlarla belirtilen yerlere gelmesi gereken cisimleri örnekteki gibi numaralandırarak belirleyelim.

1 2





Aşağıdaki örüntülerden hangisi yukarıdaki örüntüyle aynıdır?

- A)
- B)
- C)



Yukarıdaki örüntü hangisiyle devam etmelidir?

- A)
- B)
- C)



Örüntüyü bozan şekil hangisidir?

- A)
- B)
- C)



Yukarıdaki örüntünün kuralı hangisidir?

- A) 2 dikdörtgen, 3 üçgen, 1 kare
- B) 3 üçgen, 3 dikdörtgen, 1 kare
- C) 2 kare, 2 üçgen, 1 dikdörtgen



Yukarıdaki örüntünün kuralı hangisinde doğru verilmiştir?

- A)
- B)
- C)

6) Hangisi örüntü oluşturmaz?

- A)
- B)
- C)



Örüntüde noktalı yere hangisi gelmelidir?

- A)
- B)
- C)



Yukarıdaki örüntü hangisiyle devam etmelidir?

- A)
- B)
- C)