






Adı Soyadı :


Numarası :

Konu: Paralarımız (Paralarımızı Tanıyalım) Etkinliği 4

Aşağıdaki para gruplarını örnekteki gibi paralarla eşleştiriniz



Aşağıda görselleri verilen ürünler satın alınmıştır. Alınca para üstlerini yazalım.



14 TL

Para üstü: TL



55 TL

Para üstü: TL




27 TL

Para üstü: TL




66 TL

Para üstü: TL



78 TL

Para üstü: TL



6 TL

Para üstü: TL



50 kr

Para üstü: TL



43 TL

Para üstü: TL



Yukarıdaki paraların toplam miktarı kaç liradır?

- A) 35 TL B) 36 TL C) 37 TL

2) Aşağıdakilerden hangisi 1 TL değildir?

- A) 2 tane 50 kr
B) 4 tane 25 kr
C) 10 tane 1 kr



Yukarıda verilen paralardan hangisini alırsak para üstü artmaz?

- A) 75 kr B) 50 kr C) 90 kr

4)

3 tane 1 TL, 4 tane 50 kr

Yukarıda ifade edilen paraların toplamı kaç TL eder?

- A) 5 TL B) 4 TL C) 6 TL

5) Görselde verilen çikolatayı hangi seçenekteki para ile alınabilir?



- A)
- B)
- C)

6) Aşağıda verilen ürünlerin değerini hangi paralar karşılamaz?

- A)
 2 TL
- B)
 3 TL
- C)
 4 TL

7)

Ahmet'in kumbarasında 17 TL var. Ahmet'in şapkası alabilmesi için kaç TL'ye daha ihtiyacı var?

- A) 8 TL B) 7 TL C) 6 TL