



Adı Soyadı : .....

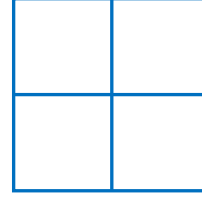
Numarası : .....

Konu: 5.Ünite Değerlendirmesi

Aşağıdaki soruları dikkatlice okuyalım ve cevaplayalım.

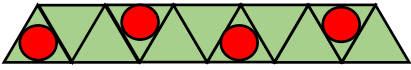


1) Aşağıdaki düzlemsel şekillerden hangisi yukarıdaki geometrik cismin yüzeylerinden biri olamaz?



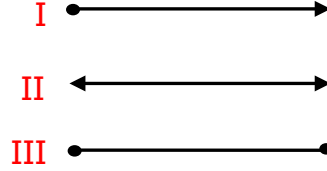
2) Yukarıdaki şekilde kaç tane kare vardır?

A) 4 B) 5 C) 6



3) Yukarıdaki örüntüde hangi geometrik şekil kullanılmamıştır?

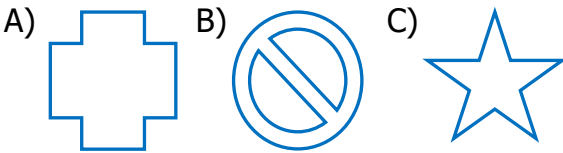
A) Üçgen B) Daire C) Kare



4) Yukarıdaki çizgi modellerinden hangisi doğru parçasıdır?

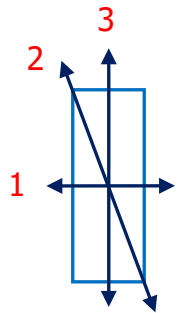
A) I B) II C) III

5) Aşağıdaki şekillerden hangisinin açısı yoktur?



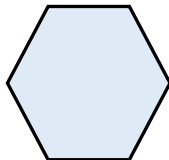
6) Yandaki numaralandırılmış doğru parçalarından hangisi dikdörtgenin simetri doğrusu değildir?

A) 3  
B) 2  
C) 1



7) Yandaki geometrik şeklin adı nedir?

A) Beşgen  
B) Altıgen  
C) Sekizgen

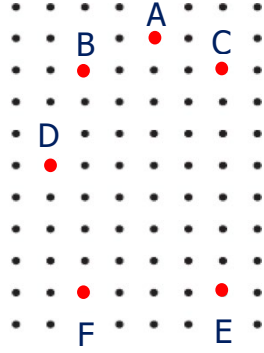


8) Hangi seçenekteki geometrik şekiller bir araya gelirse silindiri oluşturur?

A) B) C)

9) Yandaki düzlemde hangi noktaları birleştirecek noktaları birleştirecek dikdörtgen elde ederiz?


- A) D, C, E, F  
B) B, F, E, C  
C) B, A, C, F






A D M H T F

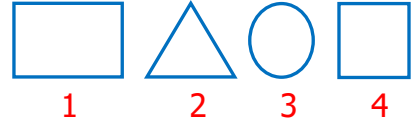
10) Yukarıdaki harflerden kaç tanesi simetriktir?

- A) 3 B) 4 C) 5



11) Yukarıdaki örüntü hangi geometrik şekil ile devam etmelidir?


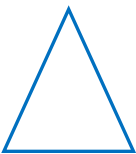

- A)  B)  C) 






12) Yukarıdaki geometrik şekillerden hangilerini cetvel kullanarak çizebiliriz?

- A) 1, 2, 3  
B) 2, 3, 4  
C) 1, 2, 4

13) Aşağıda verilen geometrik şekillerden hangisinin köşegeni yoktur?

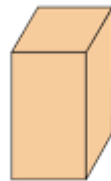
- A)  B)  C) 

14) Aşağıdakilerden hangisi ışın modeli oluşturmaz?


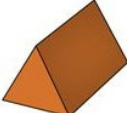
- A)  B)  C) 

15) Aşağıdakilerden hangisi yandaki geometrik cismin özelliği değildir?

- A) 6 yüzü vardır.  
B) 10 ayrıtı vardır.  
C) 8 köşesi vardır.



16) Aşağıdaki geometrik cisimlerden hangisinin yüz sayısı fazladır?

- A)  B)  C) 