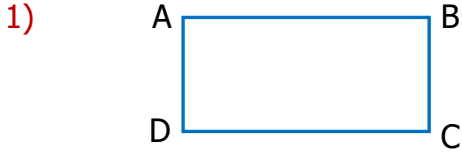




Adı Soyadı :

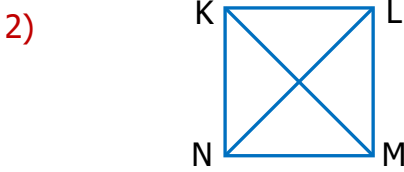
Numarası :

Konu: Matematik 5.Ünite Değerlendirme Etkinliği 2



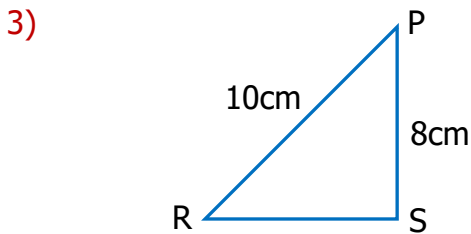
Yukarıda verilen dikdörtgenin ismi aşağıdakilerden hangisidir?

- A) ACDB B) BCAD
C) DCBA D) BACB



Yukarıda verilen KLMN karesinde hangileri köşegendir?

- A) [NM], [KL] B) [KM], [LN]
C) [KN], [LM] D) [ML], [NK]

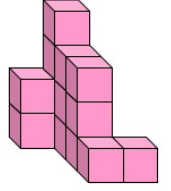


PRS üçgeninin çevresi 24 cm ise, PRS üçgeni nasıl bir üçgendir?

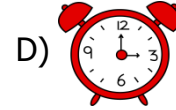
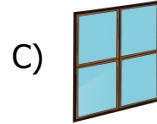
- A) Eş kenar B) İkizkenar
C) Çeşit kenar D) Geniş açılı üçgen

4) Yandaki yapı kaç eş küpten oluşmaktadır?

- A) 14 B) 15
C) 16 D) 17



5) Aşağıdakilerden hangisi düzlem değildir?



6) Aşağıda verilen harflerden hangisinin tek bir açısı vardır?

A) **H**

B) **L**

C) **F**

D) **Z**

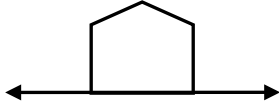
7)



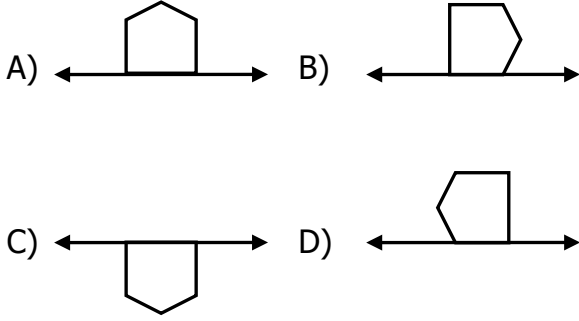
Saat tam 09.00'da akrep ve yelkovan arasındaki açı kaç derecedir?

- A) 60° B) 90°
C) 45° D) 120°

8)



Yukarıda verilen şeklin yatay eksenine göre simetriği hangisidir?



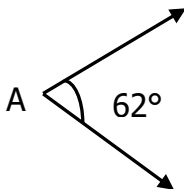
9)

1	6 km 10 m = 6010 m
2	3 m 20 cm = 320 cm
3	6 cm 3 mm = 63 mm
4	3 m 5 mm = 305 mm

Yukarıda verilen eşitliklerden hangisi yanlıştır?

A) 1 B) 2 C) 3 D) 4

10)



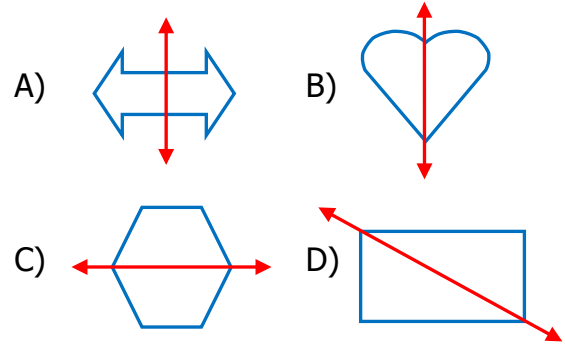
Yukarıda verilen açının ölçüsü hangi seçenekte doğru yazılmıştır?

A) $s(\hat{A}) = 62^\circ$ B) $(\hat{A}) = 62$
C) $s(A) = 62$ D) $(A) = 62$

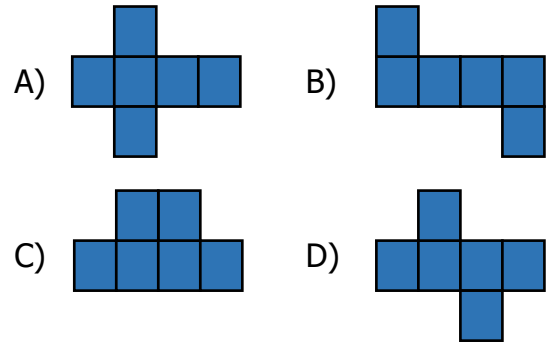
11) Bir terzi 15 metrelik bir kumaştan 4 tane 235 cm'lik kumaş kesmiştir. Buna göre geriye kaç cm kumaş kalmıştır?

A) 550 cm B) 560 cm
C) 570 cm D) 580 cm

12) Aşağıda verilen şekillerden hangisinin simetri doğrusu doğru çizilmiştir?



13) Aşağıdakilerden hangisi küpün açınımlı olamaz?



14) Emre'nin kaleminin boyu 22 cm'dir. Emre, kalemini kalemıraş ile her açtığında 6 mm kısalıyor. Emre, kalemini 10 kez açtığında kaleminin boyu kaç cm olur?

A) 15 B) 16
C) 17 D) 18