



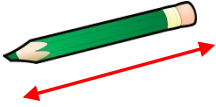

Adı Soyadı :


Numarası :

Konu: Uzunlukları Ölçme (Metre ve Santimetre Arasındaki İlişki) Etkinliği 3

Aşağıda görsellerin uzunluklarını hangi uzunluk birimiyle ölçülebileceğini işaretleyiniz.


☐ cm ☐ m


☐ cm ☐ m

☐ cm ☐ m

☐ cm ☐ m

☐ cm ☐ m

☐ cm ☐ m

☐ cm ☐ m

☐ cm ☐ m

Aşağıda görselleri verilen standart ölçme araçlarını adlarıyla eşleştiriniz.


☐ Kırık metre

☐ Şerit metre

☐ Mezura

☐ cetvel

Aşağıda verilen ifadelerden doğru olanları işaretleyiniz.

☐ 1 m, 20 cm'den büyüktür.

☐ Yarım metre 40 cm'den küçüktür.

☐ 180 cm, 1 m'den uzundur.

☐ Bir kalemtraşın boyu 1 m'den küçüktür.

☐ 2 m, 100 cm'den büyüktür.

☐ 10 tane 10 cm, 1 m'ye eşittir.

☐ Sınıf kapısının yüksekliği 1 m'den azdır.

☐ Sıramızın yerden yüksekliği 10 cm'dir.

Aşağıda verilen uzunluk ölçülerini, istenilen birimlere dönüştürünüz

1 m = cm	200 cm = m
3 m = cm	500 cm = m
7 m = cm	600 cm = m
9 m = cm	800 cm = m

Aşağıda verilen uzunlukları örnekteki gibi santimetre birimi ile yazınız.

1 metre 60 santimetre = 160 santimetre ↓ ↓ 100 cm + 60 cm = 160 cm
2 metre 40 santimetre = cm ↓ ↓ cm + cm = cm
4 metre 10 santimetre = cm ↓ ↓ cm + cm = cm
6 metre 70 santimetre = cm ↓ ↓ cm + cm = cm
8 metre 90 santimetre = cm ↓ ↓ cm + cm = cm
9 metre 25 santimetre = cm ↓ ↓ cm + cm = cm

Aşağıda verilen uzunlukları örnekteki metre ve santimetre olarak yazınız.

145 cm ↙ ↘ 100 cm + 45 cm = 1 m 45 cm
183 cm ↙ ↘ cm + cm = m cm
205 cm ↙ ↘ cm + cm = m cm
423 cm ↙ ↘ cm + cm = m cm
336 cm ↙ ↘ cm + cm = m cm
588 cm ↙ ↘ cm + cm = m cm
625 cm ↙ ↘ cm + cm = m cm
740 cm ↙ ↘ cm + cm = m cm
850 cm ↙ ↘ cm + cm = m cm

Aşağıda verilen uzunluk ölçülerini, istenilen birimlere dönüştürünüz

$$2 \text{ m } 12 \text{ cm} = \dots\dots\dots \text{ cm}$$

$$4 \text{ m } 25 \text{ cm} = \dots\dots\dots \text{ cm}$$

$$3 \text{ m } 32 \text{ cm} = \dots\dots\dots \text{ cm}$$

$$5 \text{ m } 60 \text{ cm} = \dots\dots\dots \text{ cm}$$

$$7 \text{ m } 47 \text{ cm} = \dots\dots\dots \text{ cm}$$

$$6 \text{ m } 53 \text{ cm} = \dots\dots\dots \text{ cm}$$

$$8 \text{ m } 20 \text{ cm} = \dots\dots\dots \text{ cm}$$

$$5 \text{ m } 5 \text{ cm} = \dots\dots\dots \text{ cm}$$

$$1 \text{ m } 98 \text{ cm} = \dots\dots\dots \text{ cm}$$

$$9 \text{ m } 87 \text{ cm} = \dots\dots\dots \text{ cm}$$

$$3 \text{ m } 28 \text{ cm} = \dots\dots\dots \text{ cm}$$

$$6 \text{ m } 60 \text{ cm} = \dots\dots\dots \text{ cm}$$

$$8 \text{ m } 10 \text{ cm} = \dots\dots\dots \text{ cm}$$

$$2 \text{ m } 70 \text{ cm} = \dots\dots\dots \text{ cm}$$

$$4 \text{ m } 8 \text{ cm} = \dots\dots\dots \text{ cm}$$

Aşağıda verilen uzunluk ölçülerini, istenilen birimlere dönüştürünüz

$$135 \text{ cm} = \dots\dots \text{ m } \dots\dots\dots \text{ cm}$$

$$218 \text{ cm} = \dots\dots \text{ m } \dots\dots\dots \text{ cm}$$

$$320 \text{ cm} = \dots\dots \text{ m } \dots\dots\dots \text{ cm}$$

$$463 \text{ cm} = \dots\dots \text{ m } \dots\dots\dots \text{ cm}$$

$$505 \text{ cm} = \dots\dots \text{ m } \dots\dots\dots \text{ cm}$$

$$724 \text{ cm} = \dots\dots \text{ m } \dots\dots\dots \text{ cm}$$

$$658 \text{ cm} = \dots\dots \text{ m } \dots\dots\dots \text{ cm}$$

$$875 \text{ cm} = \dots\dots \text{ m } \dots\dots\dots \text{ cm}$$

$$634 \text{ cm} = \dots\dots \text{ m } \dots\dots\dots \text{ cm}$$

$$170 \text{ cm} = \dots\dots \text{ m } \dots\dots\dots \text{ cm}$$

$$202 \text{ cm} = \dots\dots \text{ m } \dots\dots\dots \text{ cm}$$

$$462 \text{ cm} = \dots\dots \text{ m } \dots\dots\dots \text{ cm}$$

$$515 \text{ cm} = \dots\dots \text{ m } \dots\dots\dots \text{ cm}$$

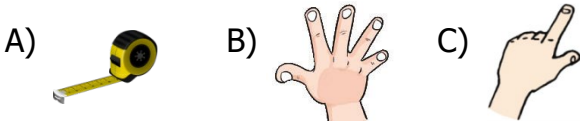
$$956 \text{ cm} = \dots\dots \text{ m } \dots\dots\dots \text{ cm}$$

$$341 \text{ cm} = \dots\dots \text{ m } \dots\dots\dots \text{ cm}$$

1) Aşağıdaki seçenekte verilen eşitliklerden hangisi yanlıştır?




- A) $115 \text{ cm} = 1 \text{ m } 15 \text{ cm}$
B) $207 \text{ cm} = 2 \text{ m } 70 \text{ cm}$
C) $330 \text{ cm} = 3 \text{ m } 30 \text{ cm}$

2) Aşağıdaki görsellerden hangisi standart ölçme aracıdır?






3) 1 metre ile 2 çeyrek metrenin toplamı 2 metreden kaç cm eksiktir?

- A) 100 cm B) 50 cm C) 25 cm

- 4)  Yüz yirmi beş santimetre
 Yüz kırk santimetre
 Yüz beş santimetre

Yukarıda verilen uzunluklardan hangisi, diğerlerinden daha uzundur?

- A)  B)  C) 

5) $3 \text{ m } 9 \text{ cm} = \dots\dots\dots \text{ cm}$

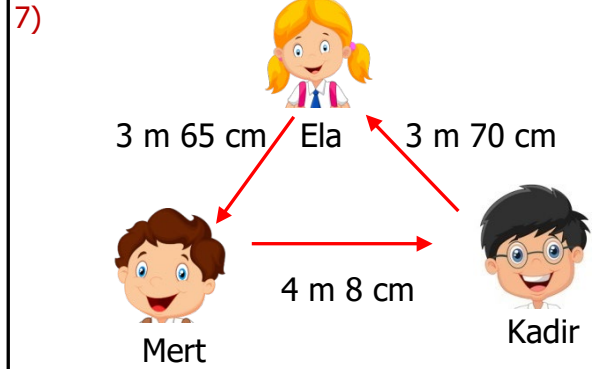
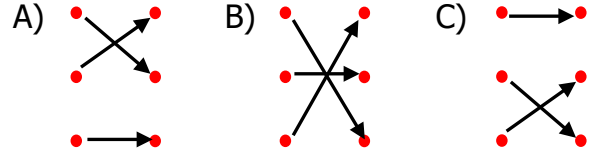
Yukarıdaki ifadede noktalı yere hangisi gelmelidir?

- A) 309 cm B) 319 cm C) 390 cm

- 6)

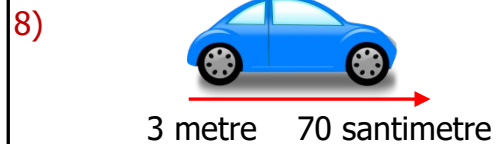
200 cm	4 m 5 cm
375 cm	3 m 75 cm
405 cm	2 m

Yukarıdaki dönüşüm eşleştirmesinde hangisi oluşur?



Yukarıda verilen uzaklıklardan hangileri arasındaki mesafe en azdır?

- A) Ela - Kadir
B) Mert - Ela
C) Kadir - Mert



Yukarıda verilen arabanın boyu hangisi olamaz?

- A) 370 cm
B) 3 m 70 cm
C) 370 m