



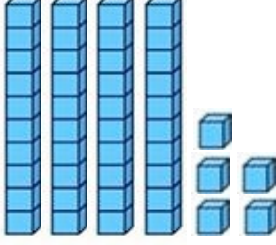
Adı Soyadı :

Numarası :

Konu: Doğal Sayılarla İlgili Değerlendirme

Aşağıdaki doğal sayılarla ilgili soruları dikkatlice okuyalım ve cevaplayalım.


1)



Yukarıda taban bloklarıyla oluşturulan sayı aşağıdakilerden hangisidir?

- A) 35 B) 45 C) 54

2)



Yukarıdaki çiçekleri desteye tamamlamak için kaç çiçek daha eklemeliyiz?

- A) 6 B) 5 C) 4

3) "63" sayısının onluk ve birlikleri hangi seçenekte doğru verilmiştir?

- A) 6 onluk + 3 birlik
B) 3 onluk + 6 birlik
C) 6 birlik + 3 onluk

4)



Misket sayılarının okunuşu hangisidir?

- A) Yirmi bir
B) Yirmi iki
C) Yirmi üç

5) Aşağıdaki sayıların hangisinin birler basamağında 8, onlar basamağında 7 sayısı vardır?

- A) 87
B) 68
C) 78

6) "46" sayısının basamak değerleri hangi seçenekte doğru verilmiştir?

- A) $\begin{array}{l} 46 \\ \downarrow \rightarrow 6 \\ \downarrow \rightarrow 40 \end{array}$ B) $\begin{array}{l} 46 \\ \downarrow \rightarrow 6 \\ \downarrow \rightarrow 4 \end{array}$
C) $\begin{array}{l} 46 \\ \downarrow \rightarrow 60 \\ \downarrow \rightarrow 4 \end{array}$

7) "53" sayısının onlar basamağındaki rakamı 3 arttırıp, birler basamağındaki sayıyı 2 azaltırsak yeni sayı kaç olur?

- A) 72 B) 81 C) 56

8) 18'den başlayıp ileriye doğru üçer ritmik sayarken 4. sırada söylediğimiz sayı kaçtır?

- A) 27
B) 30
C) 24

9) $8 - 12 - 16 - \star - 24 - \blacksquare - 32$

Yukarıdaki örüntüde \star ve \blacksquare yerine hangi sayılar yazılmalıdır?

- A) 20 - 32
- B) 20 - 28
- C) 18 - 28

10) 76 52 44 82

Yukarıda verilen sayılar hangi seçenekte küçükten büyüğe doğru sıralanmıştır?


- A) 52 - 44 - 76 - 82
- B) 44 - 52 - 82 - 76
- C) 44 - 52 - 76 - 82

11) sayısı, 68'den büyük; 80'den küçüktür.

Yukarıdaki işlemlerden hangilerinin sonucu 20'dir?

- A) 75
- B) 67
- C) 83

12) 1. 2. 3. 4.



Yukarıdaki görsele göre hangi ifade yanlıştır?

- A) Kelebek, üçüncü sıradadır.
- B) Arı, kelebek ve uğurböceği arasındadır.
- C) Uğurböceği, kelebekten sonra gelir.

13) Aşağıdaki sayılardan hangisi 60'a yuvarlanamaz?

- A) 55
- B) 63
- C) 54

14) 44 45 38



Yukarıdaki sayılardan hangisinin en yakın onluğu, diğerlerinden farklı bir sayıdır?

- A) 45
- B) 44
- C) 38

15) Aşağıda verilen sayılardan hangisinde onlar basamağı yoktur?

- A) Seksen
- B) Dokuz
- C) On altı

16) Aşağıdakilerden hangisi bir düzinedir?

- A) 
- B) 
- C) 