




Adı Soyadı :

Numarası :

Konu: 5.Ünite Değerlendirmesi (Kesirler, Zamanı Ölçme ve Paralarımız)

Aşağıdaki soruları dikkatlice okuyalım ve cevaplayalım.



1) Yukarıdaki limonlardan kaç çeyrek limon elde edilir?

- A) 6 B) 4 C) 2

2) Yandaki saatin okunuşu aşağıdakilerden hangisidir?

- A) Bir buçuk
B) Biri çeyrek geçiyor
C) Bire çeyrek var



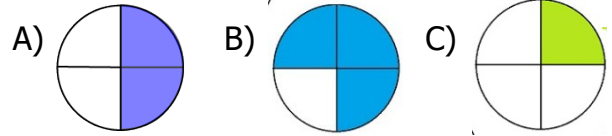
23 TL



35 TL

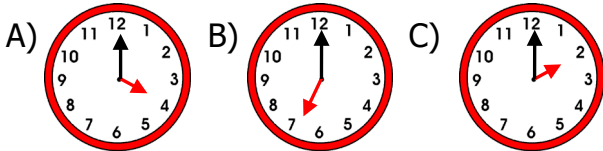
3) 50 TL param var yukarıdaki ürünleri alabilmek için kaç TL paraya ihtiyacım var?
Çözüm:

4) Aşağıdaki şekillerden hangisinin çeyreği boyanmıştır?



Saat: On altı

5) Aşağıdaki saatlerden hangisi yazılan saati göstermektedir?



6) 2 tane 20 liram, 2 tane 10 liram ve 1 tane 5 liram var. 40 liralık şapkayı alırsam geriye kaç liram kalır?

Çözüm:



7) Aşağıdaki ifadelerden hangisi yanlıştır?

- A) Bir yıl 12 aydır.
B) Bir hafta 7 gündür.
C) Bir mevsimde 4 ay vardır.

8) 6 yarık ekmek elde etmek için kaç tane ekmeğe ihtiyaç duyarız?

- A) 3
B) 4
C) 5



9) Saat 18.00'de başlayan çizgi film 20.00'de bitmiştir. Çizgi film kaç saat sürmüştür?

Çözüm:



10) Yukarıdaki paraların toplamı kaç TL'dir?

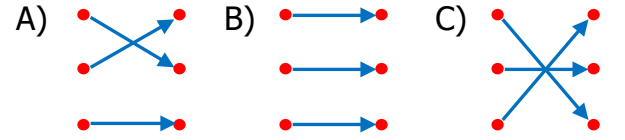
- A) 35 B) 46 C) 36

11) İlkbahar ayları hangi seçenekte doğru verilmiştir?

- A) Şubat, Mart, Nisan
B) Mart, Nisan, Mayıs
C) Nisan, Mayıs, Haziran

- 6 yarım • • 2 bütün
4 çeyrek • • 1 bütün
4 yarım • • 3 bütün


12) Yukarıdaki ifadeler eşleştirildiğinde aşağıdaki şekillerden hangisi oluşur?



13) Aşağıdaki dijital saatlerden hangisi saat 03.00'ü göstermektedir?

- A) 15.00
B) 17.00
C) 19.00

14) İki çeyrek elmaya aşağıdakilerden hangisine eklenirse bir bütün elma eder?



15) 5 tane 1 lira, 6 tane 50 kr, 4 tane 25 kr kaç TL eder?

Çözüm:



16) Saat 07.00'da hareket eden bir otobüs 4 saat sonra yarım saat mola vermiştir. Mola bittiğinde saat kaçtır?

- A) 10.30 B) 11.30 C) 12.30