

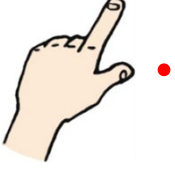


Adı Soyadı :

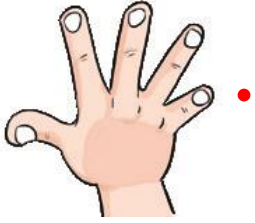
Numarası :

Konu: Uzunlukları Ölçme (Standart Olmayan Ölçme Araçları) Etkinliği 2

Aşağıda görselleri verilen standart ölçme araçlarını isimleriyle eşleştiriniz.



karış



ayak



adım



kulaç



parmak

Aşağıda görselleri verilen varlıkların uzunluklarını ölçerken kullanacağımız standart olmayan ölçme araçlarının adlarını altlarına yazınız.



.....

.....



.....

.....



.....

.....



.....

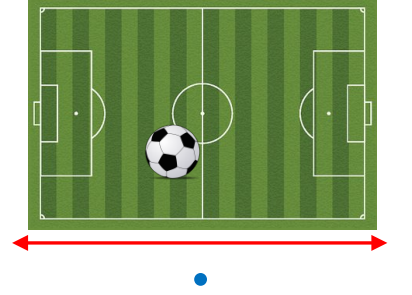
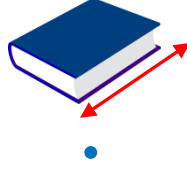
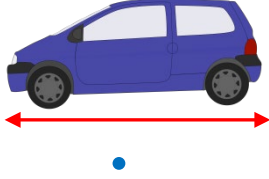
.....



.....

.....

Aşağıda görsellerin gerçek uzunluklarını tahmin ederek kutularla eşleştiriniz.



120 m

20 cm

1 cm

4 m

120 cm

Sınıfımızdaki eşyaların uzunluklarını standart olmayan ölçme araçlarından uygun olanlarıyla ölçerek tabloya yazınız.

| UZUNLUKLAR | Parmak | Karış | Adım | Ayak | Kulaç |
|-----------------------------|--------|-------|------|------|-------|
| Öğretmen masasının eni | | | | | |
| Sınıf tahtasının boyu | | | | | |
| Sıramızın yerden yüksekliği | | | | | |
| Kalemimizin boyu | | | | | |
| Kapının genişliği | | | | | |
| Kitabımızın boyu | | | | | |
| Sınıf dolabımızın eni | | | | | |
| Sınıf panomuzun eni | | | | | |
| Silgimizin uzunluğu | | | | | |
| Pencerenin eni | | | | | |