



Adı Soyadı :

Numarası :

Konu: Veri Toplama ve Değerlendirme (Tablo Okuyalım) Etkinliği 3

→ Aşağıdaki tabloda 1 /A sınıfındaki öğrencilerin en sevdiği çiçekler verilmiştir. Buna göre yandaki soruları cevaplayınız.

Çiçekler	Çiçek Sayısı
Gül	
Lale	
Papatya	
Karanfil	

1) En sevilen çiçek hangisidir?

A) Lale B) Gül C) Papatya

2) En az sevilen çiçek hangisidir?

A) Karanfil B) Papatya C) Lale

3) En çok sevilen çiçek, en az sevilen çiçekten kaç fazladır?

A) 1 B) 2 C) 3

→ Aşağıda 1 /B sınıfındaki öğrencilerin nöbetçi tablosu verilmiştir. Buna göre yandaki soruları cevaplayınız.

1) Berre ile Eda hangi gün nöbetçidir?

A) Salı B) Çarşamba C) Perşembe

2) Cuma günü hangi öğrenciler nöbetçidir?

A) Arda, Yusuf

B) Aykut, Sema

C) Murat, Elif





















3) Mert hangi gün nöbetçidir?

A) Pazartesi B) Salı C) Perşembe

Günler	Nöbetçi Öğrenciler
Pazartesi	Aykut, Sema
Salı	Berre, Eda
Çarşamb	Arda, Yusuf
Perşembe	Azra, Mert
Cuma	Murat, Elif

Aşağıdaki tabloyu dikkatlice inceleyiniz. Soruları cevaplayınız.

Tablo: 1 /C Sınıfı Beslenme Tablosu

Pazartesi				
Salı				
Çarşamba				
Perşembe				
Cuma				

1) Çocuklar hangi gün meyve suyu içmektedir

.....

2) Öğrenciler hangi yiyeceği her gün getirmektedir?

.....

3) Hangi günler poğaçaya yenmektedir?

.....

3) Haftanın hangi günleri zeytin yenmektedir?

.....

4) Haftanın hangi günleri portakal yenmektedir?

.....