

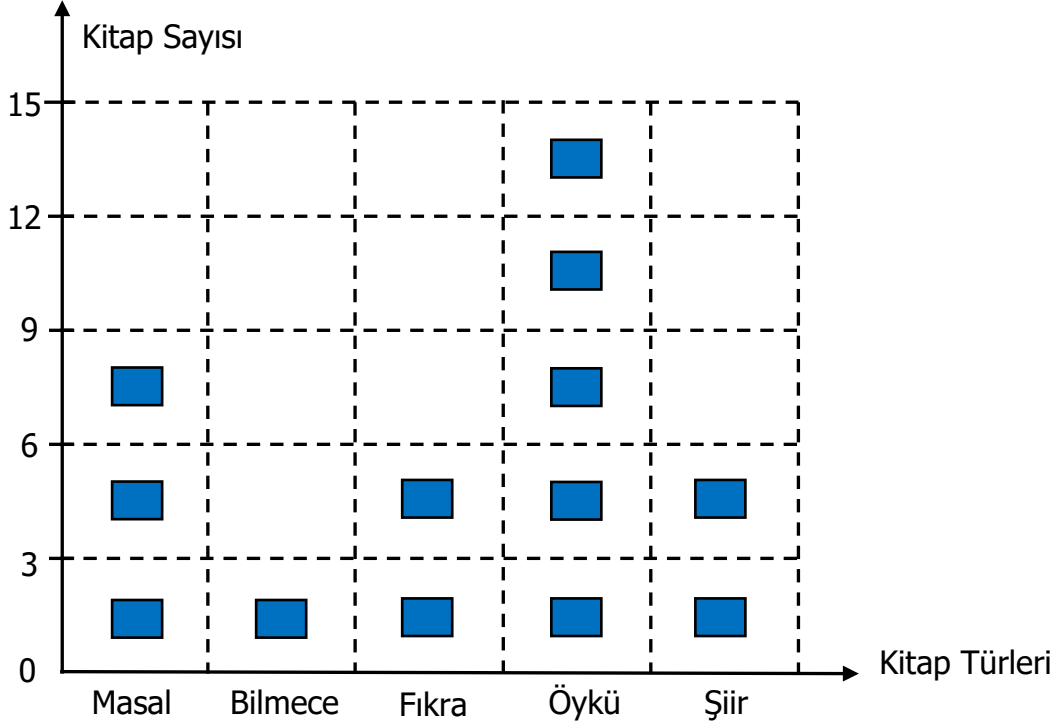
Adı Soyadı : .....

Numarası : .....

Konu: Tablo ve Grafik Oluşturma (Veri) Etkinliği 5

Aşağıdaki grafiğe göre çetele ve sıklık tablosu oluşturularak soruları cevaplayınız.

Grafik: Sınıfımızdaki Kitap Türleri



(Grafikte her şekil 3 kitabı göstermektedir.)

Çetele Tablosu: .....

Sıklık Tablosu: .....

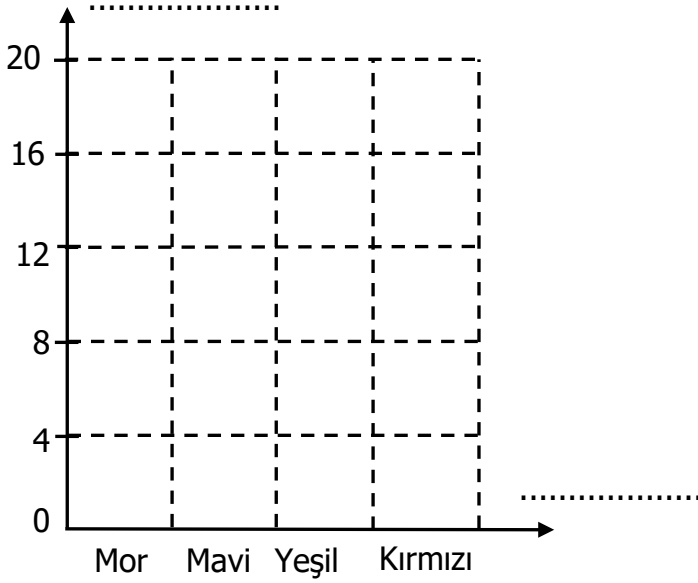
Kitaplar	Kitap Sayısı

Kitaplar	Kitap Sayısı





- Sınıf kitaplığında en fazla hangi kitap bulunmaktadır? .....
- Sınıf kitaplığında en fazla ve en az kitabın toplamı kaçtır? .....
- Sınıf kitaplığında hangi kitaplar eşit sayıdadır? .....
- Sınıf kitaplığında toplam kaç kitap vardır? .....

Aşağıdaki tabloda 2/B sınıfı öğrencilerinin Cumhuriyet Bayramı'nda sınıfı süslemek için aldığı balonların nesne grafiği verilmiştir. Buna göre şekil grafiği oluşturalım.

Grafik: .....



Grafik: 2/ B Sınıfındaki Balonlar

Balonlar	Balon Sayısı
Mor	
Mavi	
Yeşil	
Kırmızı	

Not: Her nesne 4 öğrenciyi göstermektedir.

Not: Her şekil  4 öğrenciyi göstermektedir.

Yukarıdaki verilere göre çetele ve sıklık tablosu oluşturarak aşağıdaki soruları yanıtlayınız.

Çetele Tablosu: 2/B Sınıfındaki Balonlar

Balonlar	Balon Sayısı

Sıklık Tablosu: 2/B Sınıfındaki Balonlar

Balonlar	Balon Sayısı

- 1) En fazla alınan balon sayısı kaçtır? (.....)
- 2) Mor balonları sayısı, kırmızı balonlardan sayısından kaç fazladır? (.....)
- 3) Mavi balonlar ile yeşil balonların toplam sayısı kaçtır? (.....)
- 4) Yeşil ve kırmızı balonların toplamı hangi balonun sayısına eşittir? (.....)
- 5) Sınıfa en az alınan balon sayısı kaçtır? (.....)
- 6) 2/B sınıfında kaç öğrenci vardır? (.....)