

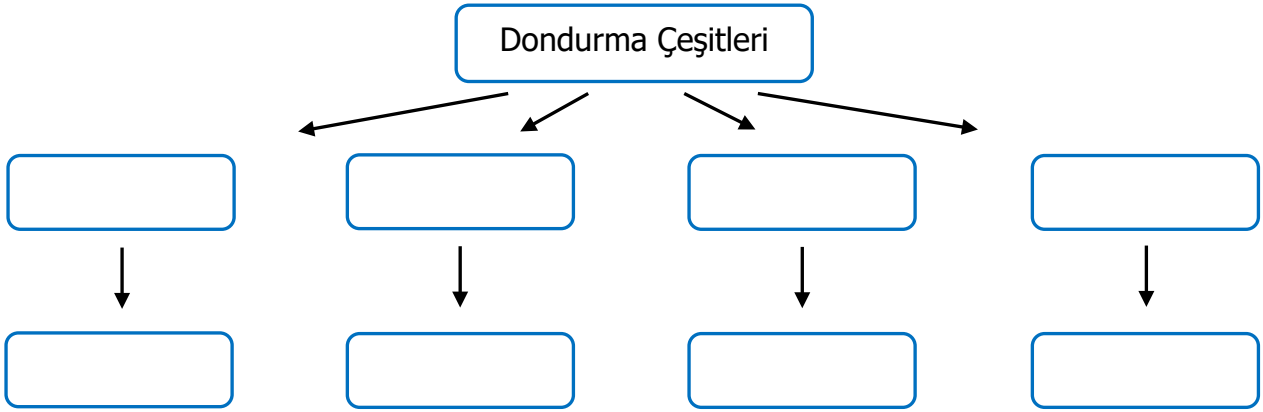
Adı Soyadı :

Numarası :

Konu: Tablo ve Grafik Oluşturma (Veri) Etkinliği 6

2/E sınıftaki öğrencilerin sevdiği dondurma çeşitlerine göre ağaç şeması oluşturunuz.

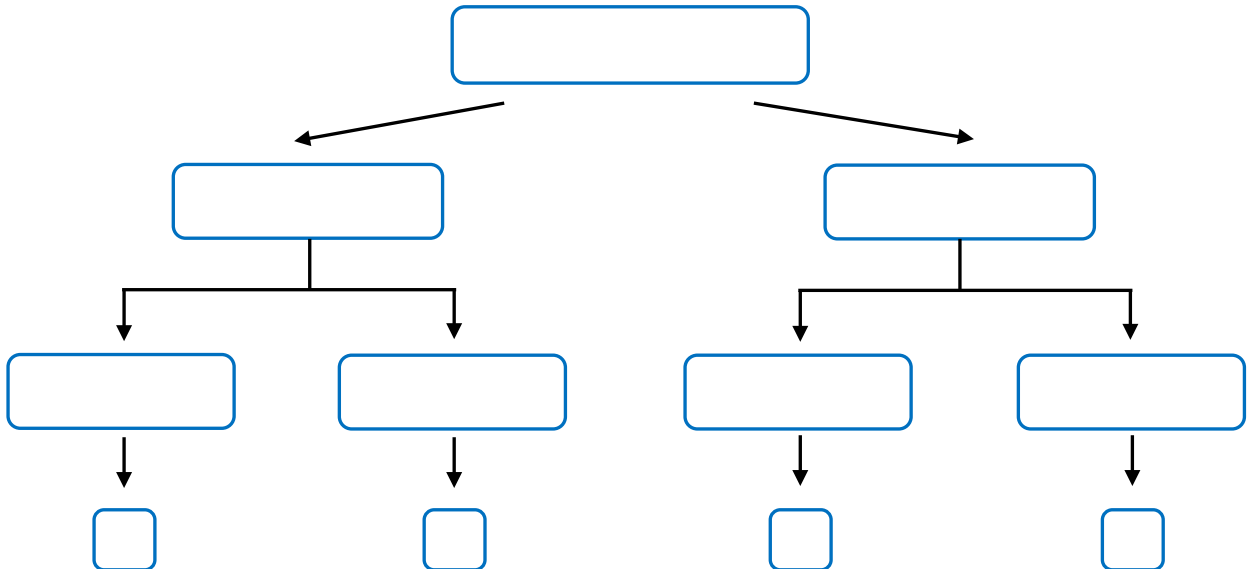
Çilekli 8, Limonlu 6, Sütlü 7, Çikolatalı dondurmayı 9 kişi sevmektedir.



2/D sınıftaki öğrencilere sinemadaki hangi filmi izlemek istedikleri sorulmuştur.

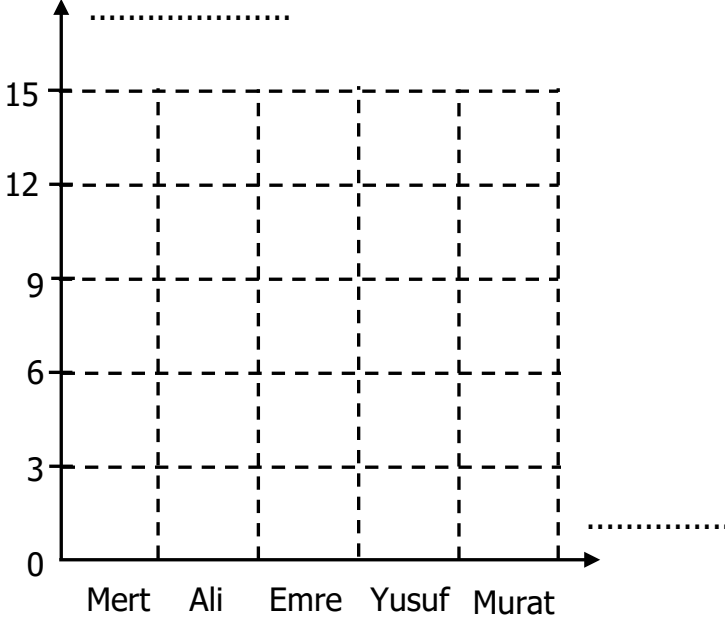
- 5 kız öğrenci komedi filmi
- 4 erkek öğrenci macera filmi
- 6 kız öğrenci macera filmi
- 7 erkek öğrenci komedi filmi

Bu dağılımı ağaç şeması olarak gösteriniz.



Aşağıda 2/F sınıfında yapılan başkanlık seçiminde alınan oyların şekil grafiği verilmiştir. Bu şekil grafiğine göre tabloyu oluşturalım.

Grafik:



Not: Her şekil ▲ 3 öğrenciyi göstermektedir.

Grafik: Alınan oylar

Öğrenciler	Oy Sayısı
Mert	▲ ▲
Ali	▲ ▲ ▲
Emre	▲ ▲ ▲ ▲ ▲
Yusuf	▲ ▲ ▲ ▲
Murat	▲

Not: Her şekil 3 öğrenciyi göstermektedir.

Yukarıdaki tabloya göre çetele ve sıklık tablosu oluşturalım.

Çetele Tablosu: Alınan Oylar

Öğrenciler	Oy Sayısı

Sıklık Tablosu: Alınan Oylar

Öğrenciler	Oy Sayısı

- 1) 2/F sınıfında en fazla oyu kim almıştır?
- 2) 2/F sınıfında en az oyu kim almıştır?
- 3) 2/F sınıfında kaç öğrenci vardır?
- 4) Emre, Yusuf'tan kaç fazla oy almıştır?
- 5) Ali ve Mert'in oyları toplamı kimin aldığı oya eşittir?