



Adı Soyadı : .....

Numarası : .....

Konu: Uzunlukları Karşılaştırma ve Sıralama Etkinliği

Aşağıdaki resimleri dikkatlice inceleyiniz.




Dağcı, hangi taraftaki dağa daha önce tırmanır? Nedenini yazalım.

.....



Ağacın yapraklarını hangi hayvan daha rahat yer? Nedenini yazalım.

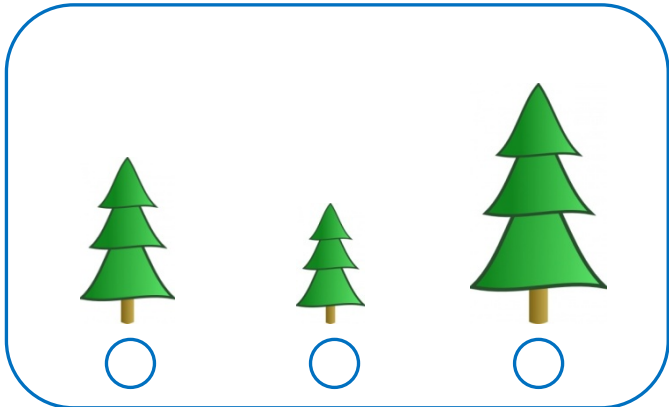
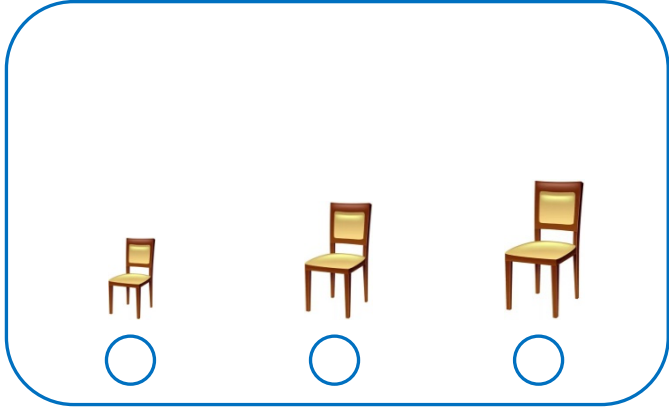
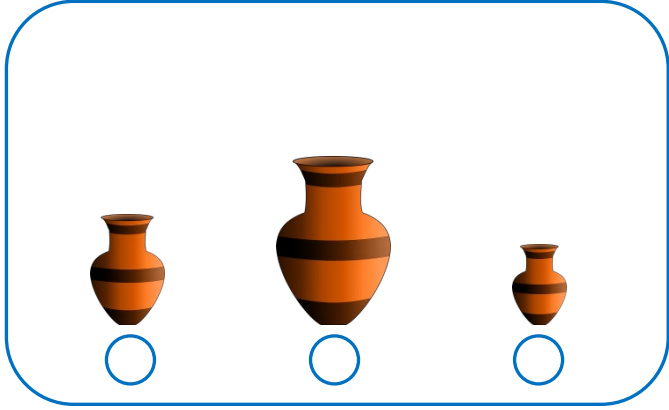
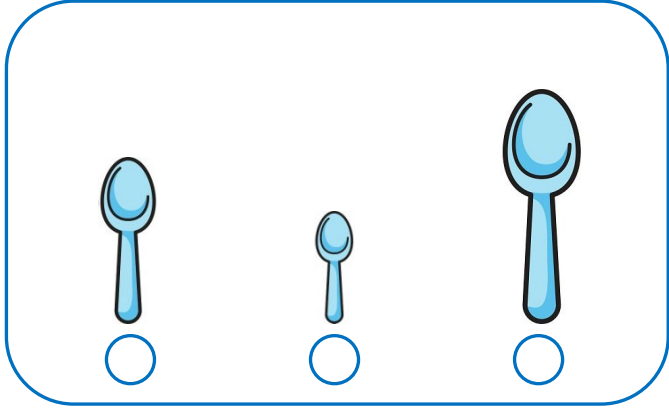
.....





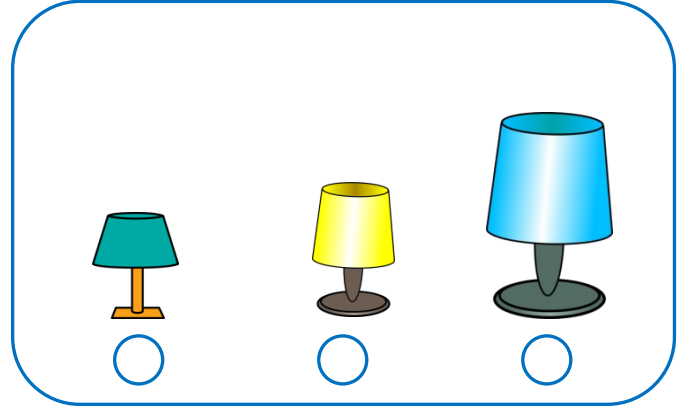

Güvercin hangi evin çatısına daha erken konar? Nedenini yazalım.

.....

Aşağıdaki varlıklardan kısa olanını işaretleyiniz.



Aşağıdaki varlıklardan uzun olanını işaretleyiniz.



Aşağıdaki varlıkların uzunluklarına bakarak örnekteki gibi "daha uzun, daha kısa" ifadelerinden uygun olanıyla doldurunuz.



at



eşek

At, eşekten daha uzundur.



mum



kalem

Mum, kalemten .....dır.



şişe



bardak

Şişe, bardaktan .....dur.



Ela



Ozan

Ela, Ozandan .....dır.



leylek



serçe

Leylek, serçeden .....dur.

Aşağıdaki varlıkları uzunluklarına göre numaralandırarak sıralayınız.

