




Adı Soyadı :

Numarası :

Konu: Standart Ölçü Birimleri (Metre, Santimetre) Etkinliği 2

Aşağıdaki uzunluk ölçme araçları ile isimleri eşleştiriniz.


 Mezura

 Şerit metre

 Cetvel

 Kırık metre

Görsellerde verilen kişiler hangi standart ölçme araçlarını kullanır? Altlarına yazınız.



Terzi

.....



Öğrenci

.....



Mühendis

.....



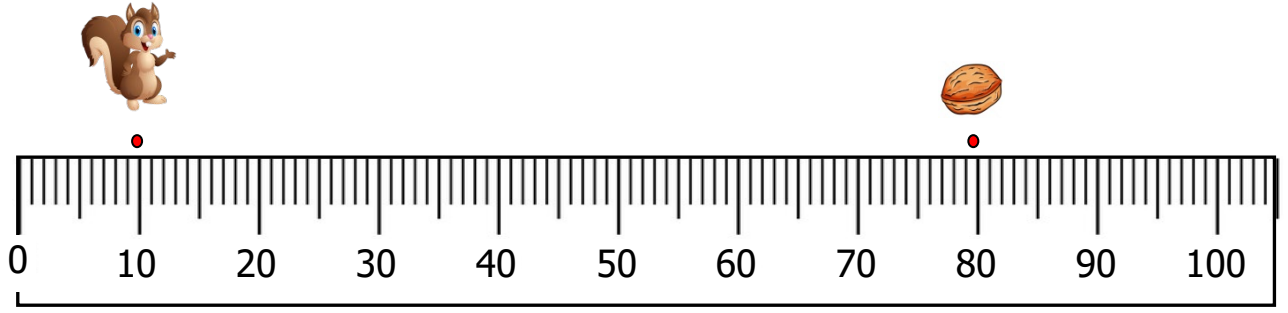
Marangoz

.....

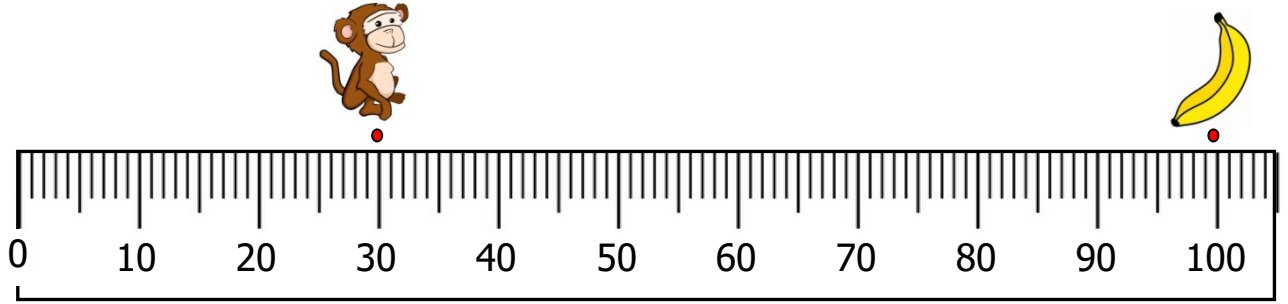
Aşağıdaki görselleri verilen nesnelerin metre ile ölçülenlerinin kutularını maviye, santimetre ile ölçülenlerin kutularına sarıya boyayınız.



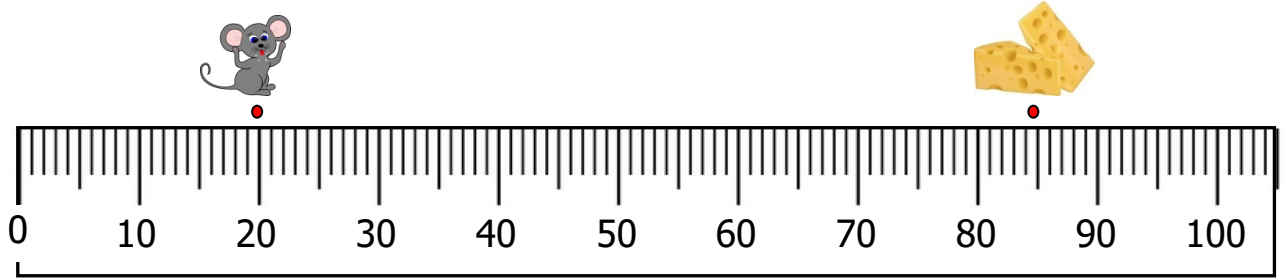
Aşağıdaki görsellerde verilen hayvanların yiyeceklere ulaşması için kaç santimetre ilerlemeleri gerektiğini altlarındaki noktalı yerlere yazınız.



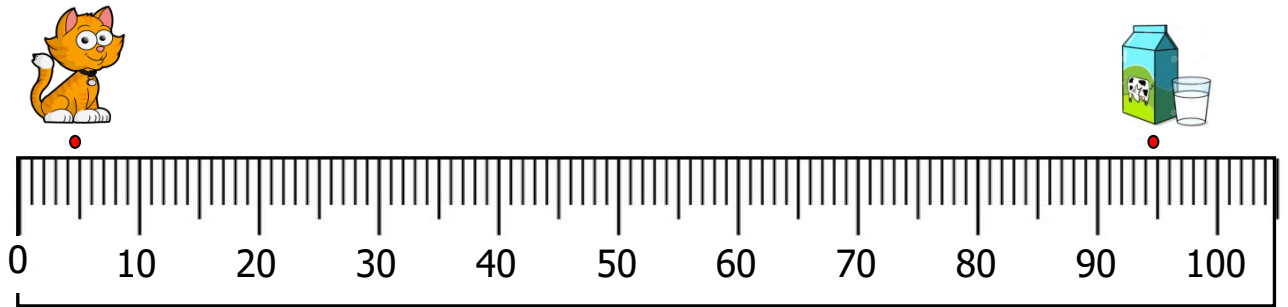
..... santimetre



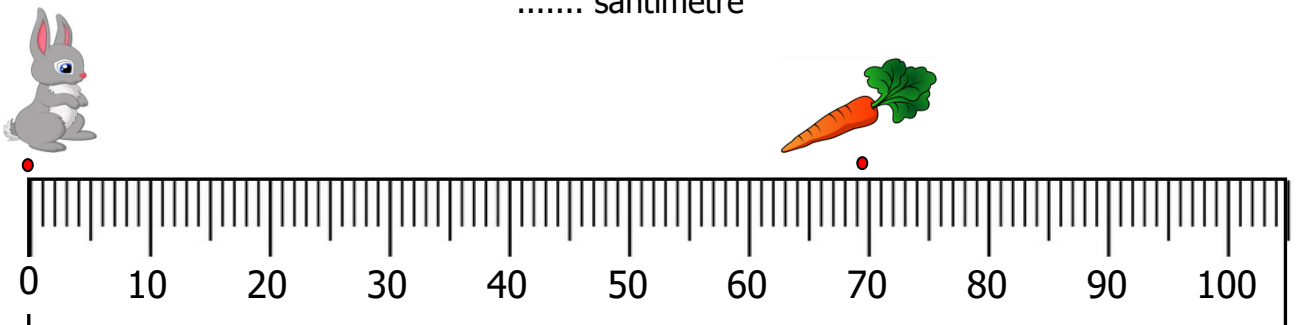
..... santimetre



..... santimetre



..... santimetre



..... santimetre

1) Aşağıdakilerden hangisi standart uzunluk ölçme birimlerinden biri değildir?

- A) metre B) kulaç C) santimetre

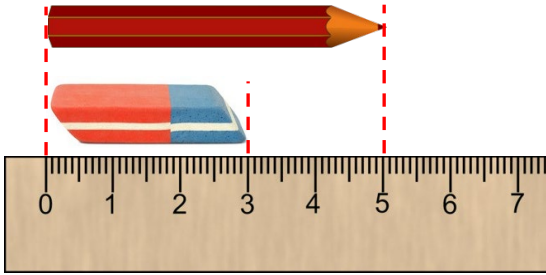
2)



Görseli verilen standart ölçme birimini aşağıdakilerden hangisi daha çok kullanır?

- A) terzi B) mühendis C) marangoz

3)



Yukarıdaki ölçüme göre hangi seçenekteki ifade yanlıştır?

- A) Silginin boyu 3 santimetredir.
B) Kalemın boyu 5 santimetredir.
C) Kalemın boyu, silginin boyundan 3 santimetre fazladır.

4) Aşağıdakilerden hangisini metre ile ölçemeyiz?

- A) Sınıfımızın enini
B) Kasadaki domateslerin ağırlığını
C) Yazı tahtasının uzunluğunu

5)



Boyumun uzunluğu 1 metre 32 santimetredir.

Ali'nin söylediğine göre aşağıdakilerden hangisi yanlıştır?

- A) Ali'nin boyu 1 metreden uzundur.
B) Ali'nin boyu 2 metreden kısadır.
C) Ali'nin boyu 1 metreden kısadır.

6) Aşağıdaki görsellerden hangisi uzunluk ölçmek için kullanılmaz?

A)



B)



C)



7)



Azra ve Barış masanın boyunu ölçüyorlar.



Azra ve Barış aşağıdakilerden hangisi ile masanın boyunu ölçerse ikisinin de ölçme sonucu kesinlikle aynı olur?

- A) metre B) karış C) kulaç

8) Aşağıdakilerden hangisinin uzunluğu bir metreden fazladır?

- A) Sıranın yüksekliği
B) Kitabın boyu
C) Bayrak direğinin boyu