






Adı Soyadı : .....

Numarası : .....

Konu: Tartma (Nesneleri Tartalım ve Karşılaştıralım) Etkinliği 3

Aşağıdaki görsellerde tartma işlemi yapılanları işaretleyiniz.



Aşağıdaki ürünlerden kilogramla satın aldıklarımızın kutularını işaretleyelim.



Aşağıdaki boşlukları tartım sonuçlarına göre dolduralım.



- ❖ Arda, ..... kilogramdır.
- ❖ Elif, ..... kilogramdır.
- ❖ Murat, ..... kilogramdır.
- ❖ Mert, ..... kilogramdır.
- ❖ Elif, Murat'tan daha .....dır.
- ❖ Murat, Arda'dan daha ..... tir.
- ❖ Mert, Arda'dan daha .....dır.
- ❖ Elif, Mert'ten daha ..... tir.
- ❖ Murat'ın ağırlığı ile Elif'in ağırlıkları toplamı ..... kilogramdır.
- ❖ Arda'nın ağırlığı Elif'in ağırlığından ..... kilogram fazladır.
- ❖ Mert'in ağırlığı ile Murat'ın ağırlıkları farkı ..... kilogramdır.
- ❖ Elif'in ağırlığı ile Mert'in ağırlıkları toplamı ..... kilogramdır.
- ❖ Arda, Elif ve Murat'ın ağırlıkları toplamı ..... kilogramdır.