

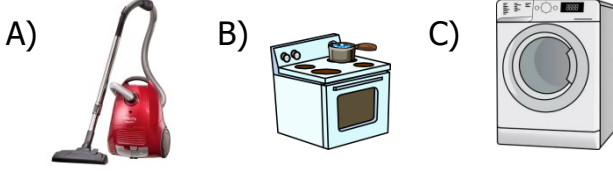


Adı Soyadı :

Numarası :

Konu: Elektrikli Araçlar Ünite Değerlendirme Etkinliği 2

1) Hangi elektrikli aracın kullanım amacı diğerlerinden farklıdır?



2) Otomobil, kamyon, ve uçaklarda elektrik kaynağı olarak kullanılır.

Yukarıdaki boş bırakılan yere aşağıdakilerden hangisi yazılmalıdır?

A) akü B) pil C) batarya

3) ■ Atık pilleri diğer katı atıklarla karıştırılmamalıdır.

▲ Atık piller atık pil kutularına atılmalıdır.

★ Atık piller toprağa gömülmelidir.

Yukarıdaki bilgilerden hangileri doğrudur?

A) ■ ★ B) ■ ▲ C) ▲ ★

4) Elektrikli bir aracı güvenli kullanmak için aşağıdakilerden hangisini yapmamalıyız?

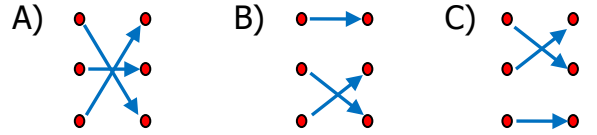
- A) Kullanmadan önce kullanma kılavuzunu okumalıyız.
B) Bozulan elektrikli araç gereçleri uzman kişilere tamir ettirmeliyiz.
C) Çoklu prize başka bir çoklu priz takmalıyız.

5) Aşağıdakilerden hangisi şehir elektriği ile çalışmaz?




- 6) Buzdolabı • Şehir elektriği
Otobüs • Batarya
Cep telefonu • Akü

Yukarıdaki araçlarla kullandıkları elektrik kaynaklarının doğru eşleştirmesi nasıl olmalıdır?



7) Aşağıdakilerden hangisi ısınma amaçlı kullanılmaz?



8) Yandaki elektrikli araç gereç için hangisi yanlıştır?



- A) Şehir elektriği ile çalışır.
B) Yiyecekleri saklamak için kullanılır.
C) Elektrik olmadığında akü ile çalışır.

9) Aşağıdaki davranışlardan hangisi elektrik çarpmasına yol açmaz?

- A) Islak ellerle elektrikli araç gereçlere dokunmak.
- B) Elektrikli araç gereçleri kullandıktan sonra fişini prizden çıkarmak.
- C) Prizlere metal cisimler sokmak.

10)

Elektrikli araçlar	Kullanım amacı
Floresan	Aydınlatma
Buzdolabı	Isıtma
Elektrikli soba	Soğutma
Tranvay	Ulaşım

Yukarıdaki tabloda hangi ifadeler yer değiştirirse tablo doğru olur?

- A) Aydınlatma - Ulaşım
- B) Soğutma - Aydınlatma
- C) Isıtma - Soğutma

11) Pillerle ilgili aşağıdakilerden hangisi yanlıştır?

- A) Atık pilleri yakmalıyız.
- B) Okullarda atık pil kutuları bulundurmamalıyız.
- C) Şarj edilen pilleri kullanmalıyız.

12) Aşağıdakilerden hangisi pil ile çalışır?

- A) Ütü
- B) Duvar saati
- C) Saç kurutma makinesi

- 13) I. Küçük çocukların güvenliği için kapaklı priz kullanmalıyız.
- II. Elektrikli araç gereçler bozulduğunda tamir etmeliyiz.
- III. Elektrik kablolarının halı ya da herhangi bir eşyanın altından geçirmeliyiz.
- IV. Elektrikli araç gereçleri kullanmamız gerektiğinde bir büyükten yardım almalıyız.

Yukarıdaki bilgilerden hangileri doğrudur?

- A) I. ve II
- B) II. ve III
- C) I. ve IV

14)

..... birçok pilin bir araya getirilmesiyle oluşur.

Yukarıdaki boş bırakılan yere aşağıdakilerden hangisi yazılmalıdır?

- A) akü
- B) batarya
- C) şehir elektriği

15) Elektrik çarpan birini görünce hangisini yapmamız doğru olmaz?

- A) 112 Acil Servis'i aramalıyız.
- B) Elektrik çarpan kişiye doğrudan müdahale etmemeliyiz.
- C) Elbisesinden tutup çekmeliyiz.

- 16) I. Buzdolabı
- II. Masa lambası
- III. Su ısıtıcısı
- IV. Fırın
- V. Bulaşık Makinesi
- VI. Ütü

Yukarıdakilerden hangileri mutfakta kullandığımız araç gereçlerdendir?

- A) I. II. III. ve VI
- B) I. III. IV. ve V
- C) II. III. V. ve VI