



Adı Soyadı :

Numarası :

Konu: Bir kaptaki Sıvı Miktarını Tahmin Etme Etkinliği 2

Aşağıdaki görsellerde verilen nesnelerin alabileceği sıvı miktarını tahmin ederek, yandaki kutucuklarla eşleştiriniz



13 000 litre



10 litre



70 mililitre



19 litre



160 litre



500 mililitre




200 mililitre



5 mililitre


Aşağıdaki görsellerde verilen kapların aldığı sıvı miktarları altlarında gösterilmiştir. Buna göre kaplardaki sıvı miktarlarını tahmin edelim.




300 mL
Tahminim:



1 L
Tahminim:




2 L
Tahminim:



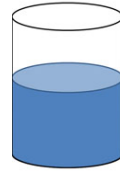
20 mL
Tahminim:



18 L
Tahminim:



10 mL
Tahminim:



1 L
Tahminim:




2 L
Tahminim:



10 L
Tahminim:



200 mL
Tahminim:




100 mL
Tahminim:



500 mL
Tahminim:

Aşağıdaki kaplarda verilen sıvı miktarlarından yararlanarak diğer kaplardaki sıvı miktarlarını tahmin ederek noktalı yerlere yazınız.



120 mL



.....



.....



.....



1 L



.....



.....



.....