

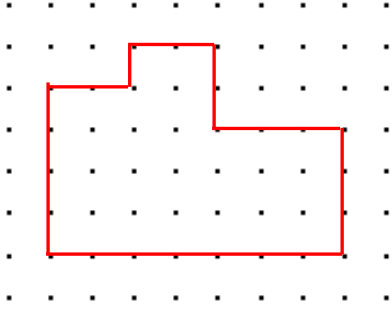


Adı Soyadı :

Numarası :

Konu: Matematik 6.Ünite Değerlendirme Etkinliği 2

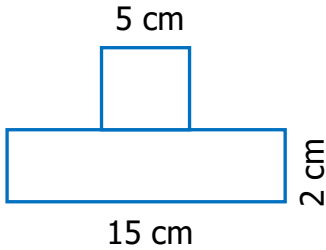
1)



Yukarıdaki şeklin çevresi kaç birimdir?

- A) 23 birim B) 24 birim
C) 25 birim D) 26 birim

2)



Yukarıda dikdörtgen ve kareden oluşan şeklin çevre uzunluğu kaç cm'dir?

- A) 44 cm B) 54 cm
C) 49 cm D) 58 cm

3) Aşağıda verilen eşitliklerden hangisi doğrudur?

- A) $3 \text{ t } 20 \text{ kg} = 320 \text{ kg}$
B) $7 \text{ kg} + 60 \text{ g} = 760 \text{ g}$
C) $5 \text{ kg} + 3 \text{ g} = 503 \text{ mg}$
D) $5 \text{ g} + 4 \text{ mg} = 5004 \text{ mg}$

4) Bozuk bir musluk bir saatte 500 mililitre su akıtıyor. Bu musluktan bir günde kaç litre su akar?

- A) 12 litre B) 13 litre
C) 14 litre D) 15 litre

5)



Yukarıda verilen kare ve dikdörtgenin alanı birbirine eşittir. Buna göre dikdörtgenin uzun kenarı kaç cm'dir?

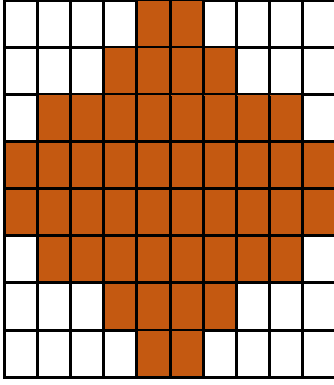
- A) 10 cm C) 11 cm
C) 12 cm D) 13 cm



6) Bir kasa içindeki elmalarla birlikte 15 kg 350 gram gelmektedir.

Boş kasanın kütlesi 1350 gram olduğuna göre elmaların kütlesi kaç kilogramdır?

- A) 13 kg B) 14 kg
C) 15 kg D) 16 kg



7) Yukarıdaki şeklin alanı kaç birim karedir?

- A) 46 birimkare B) 48 birimkare
C) 50 birimkare D) 52 birimkare



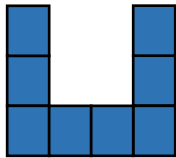
8)

Bir dakikada 6 L su akıtan musluk yukarıdaki kabı 1 saatte dolduruyor.

Buna göre kap 1 saatte kaç litre su alır?

- A) 320 L B) 360 L
C) 380 L D) 400 L

9)



Yukarıda verilen şeklin çevre uzunluğu 72 cm olduğuna göre 1 birim karenin çevre uzunluğu kaç cm'dir?

- A) 12 cm B) 14 cm
C) 16 cm D) 18 cm

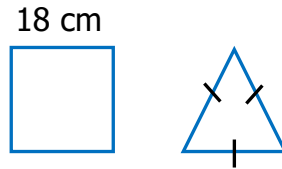
10) Bakkal Kemal Amca, 120 kg şekerin yarısını 3 kg'lık, kalanı 5 kg'lık poşetlere dolduruyor. Bu iş için kaç poşet kullanmıştır?

- A) 28 B) 32
C) 36 D) 38

11) Bir koşucu kare biçimindeki pistin etrafında 8 tur koşuyor. Koşucu toplamda 1536 m koştuğuna göre, pistin bir kenar uzunluğu kaç m'dir?

- A) 42 m B) 44 m
C) 46 m D) 48 m

12)



Yukarıdaki kare ve eşkenar üçgenin çevre uzunlukları birbirine eşittir. Karenin kenar uzunluğu 18 cm olduğuna göre eşkenar üçgenin bir kenarının uzunluğu kaç cm'dir?

- A) 21 cm B) 22 cm
C) 23 cm D) 24 cm

13) Annem 30 litre sütü 14000 mL'si ile yoğurt yapıyor. Geriye kaç mL süt kalıyor?

- A) 16000 mL B) 18000 mL
C) 20000 mL D) 22000 mL