

Adı : .....

HAYAT BİLGİSİ

Sınıfı : .....

Soyadı : .....

14 Soru

Numarası: .....

1)



Merhaba benim adım Merve.  
Şarkı söylemeyi çok seviyorum. Kendimi bu konuda yetenekli buluyorum. Okulun müzik kulübündeyim.

Merve ile ilgili verilen ifadelerden hangisi yanlıştır?

- A) Yeteneklerinin farkındadır.
- B) Okulda müzik kulübündedir.
- C) Tiyatroya ilgisi vardır.

2) I.Evimizin krokisini çizerken cadde, sokak ve önemli binaları belirtiriz.

II.Kroki çizerken cetvel kullanabiliriz.

III.Krokiyi çizerken ölçü kullanmadan kabataslak çizim yaparız.

Yukarıdaki ifadelerle hangisini söyleyebiliriz?

- A) Yalnız I
- B) I ve II
- C) I ve III

3)

Özlem'in marketten aldığı meyve suyu bozuk çıktı.



Bu durumda Özlem, öncelikle nasıl davranmalıdır?

- A) Meyve suyunu markete iade etmelidir.
- B) Meyve suyunu satan marketi şikayet etmelidir.
- C) Meyve suyunu kullanmalıdır.

4) Aşağıdaki trafik levhalarından hangisinin ismi yanlış yazılmıştır?

- A) → Yaya geçidi
- B) → Bisiklet geçebilir
- C) → Kontrolsüz demiryolu geçidi

5) Aşağıdaki verilen acil telefon numaraları eşleştirmelerinden hangisi yanlıştır?

- A) itfaiye → 110
- B) ambulans → 112
- C) polis → 156

6) Aşağıda "vali" ile ilgili verilen bilgilerden hangisi yanlıştır?

- A) Halk tarafından seçilir.
- B) İlerdeki en büyük yöneticidir.
- C) İlerdeki yasaların uygulanmasından sorumludur.

7) Türkiye'nin ilk uçak tasarımcısı ve üreticisi olan kişi aşağıdakilerden hangisidir.

- A) Vecihi Hürkuş
- B) Zihni Derin
- C) Jale İnan

8) Okuldaki kaynaklar ile kullanım alanları hangi seçenekte yanlış eşleştirilmiştir?

A) Elektrik → Teknolojik aletleri çalıştırmak için kullanılır.

B) Doğal gaz → Okul internetine bağlanmak için kullanılır.

C) Su → Kişisel bakımımızı yapmak için kullanılır.


9) Aile büyüklerimiz ve bizim çocukluk dönemlerimizle ilgili aşağıdaki bilgilerden hangisi yanlıştır?


A) Büyüklerimizin daha fazla teknolojik imkanlara sahiplermiş.


B) Büyüklerimiz doğal ortamlarda oyun oynarlarmış.

C) Çocukluk kıyafetlerimiz farklıymış.

10) Hangi öğrenci kaynaklarını verimli kullanmaktadır?

A)  Dişlerimi fırçalarken musluğu açık bırakıyorum.

B)  Banyo yaparken küveti su doldurup yıkanırım.

C)  Banyo yaparken yeteri kadar sabun ve şampuan kullanırım.

11) ...▲..., aşırı yağışlar sonucu akarsular ve barajlardaki suların taşmasıdır.

...■....., yerin derinliklerindeki hareketler sonucu oluşan sarsıntıdır.

Yukarıdaki seçeneklere hangi boşluktakiler yazılmalıdır?

A) sel - deprem

B) yangın - sel

C) sel - yangın

12) Milletimiz, kendi kendini yönetme hakkını hani olay ile kazanmıştır?

A) Atatürk'ün Samsun'a çıkmasıyla

B) TBMM'nin açılmasıyla

C) Cumhuriyetin ilanıyla

13) I. Suyu tasarruflu kullanmak  
II. Tarım ilaçlarını aşırı kullanmak  
III. Atık kirli suları denizlere dökmek

Yukarıda davranışlardan hangileri doğal çevreye zarar verir?

A) Yalnız I B) II ve III C) I ve III

14) Kutup yıldızı → ▲

Ağaçların yosun tutan tarafı → ■

Karınca yuvalarının ağzı → ★

Yukarıda verilen yön bulma yöntemlerinden hangisi diğerlerinden farklı bir yönü gösterir?

A) ★

B) ▲

C) ■

### 3.Sınıflar Deneme Sınavı

14 Soru

## TÜRKÇE

15) Tilkinin biri, ormanda dolaşırken keklikle karşılaşmış. Demiş ki: "Ey güzel keklik! Maşallah, bu ne güzellik! Bir de gözlerini kapat, öyle seyredeyim seni. "Keklik bu tatlı sözlere kanmış, gözünü kapatınca avlanmış. Üzüntü içinde demiş ki: "Hele beni yaratıp da sana verene teşekkür et, sonra afiyetle yersin." Tilki de kekligi haklı bulmuş. Teşekkür edip ağzını açınca keklik uçup canını kurtarmış.

Yukarıdaki metnin ana fikri aşağıdakilerden hangisidir?

- A) Tanımadığımız kişilerle konuşmamalıyız.
- B) Tatlı sözlere kanmamalıyız ve düşünerek hareket etmeliyiz.
- C) Büyüklerimizden izinsiz hareket etmemeliyiz.

16) Aşağıdaki satır sonuna sığmayan sözcüklerden hangisi yanlış bölünmüştür?

- A) ..... gelme – yeceğim
- B) ..... oto – büs
- C) ..... gün – aydın

17)

Yukarıdaki sözcükler sözcük sırasına göre dizildiğinde hangisi 2.sırada yer alır?

- A) tarak
- B) tarla
- C) tartı

18) Aşağıdaki cümlelerin hangisinde altı çizili sözcükler arasında eş seslilik ilişkisi yoktur?

- A) Ahmet, yedi tane ceviz yedi.
- B) Kır saçlı, adam ağacın dalını kırdı.
- C) Ablam bitkin bir şekilde bahçedeki bitkileri suladı.

19)

Yukarıdaki sözcükler ile anlamlı ve kurallı cümle oluşturduğumuzda baştan 3.sırada hangisi yer alır?

- A) gördüğü
- B) sonunda
- C) için

20)

Yukarıdaki atasözünün anlamı hangisidir?

- A) Emanet bırakılan şeyleri titizlikle korumak gereklidir.
- B) Yaşayabilmek, harçayabilmek için çalışıp kazanmak gerekir.
- C) Başkalarının hakkını yememeliyiz.

21) "ikaz – uyarı" sözcükleri arasındaki anlam ilişkisi hangi sözcük çiftinde yoktur?

- A) İlan - duyuru
- B) ilave - ek
- C) tavan - taban

- 22) Parmağıyla evi işaret etti ( )  
( ) Şuradaki evin bacasındaki kuş yuvasını görebiliyor musun ( )  
diye arkadaşına sordu ( )

Yukarıda paragrafta parantez içlerine hangi noktalama işaretleri gelmelidir?

- A) ( : ) ( — ) ( , ) ( . )  
B) ( : ) ( — ) ( ? ) ( . )  
C) ( — ) ( . ) ( ? ) ( . )

- 23) Aşağıdaki cümlelerin hangisinde varlığı niteleyen sözcük yoktur?

- A) Manava gelen taze sebzelerden aldık.  
B) Okulun bahçesinde üçerli sıra olduk.  
C) Tarladaki kargaları taş atarak kovaladım.

- 24) Çocuklar parktaki kaydıraklara koşarak gittiler.

Yukarıdaki cümlede hangi seçenekteki sorunun yanıtı yoktur?

- A) Kim? B) Nasıl? C) Ne zaman?

- 25) Aşağıdaki cümlelerin hangisinde hem duygusal hem abartılı ifade kullanılmıştır?

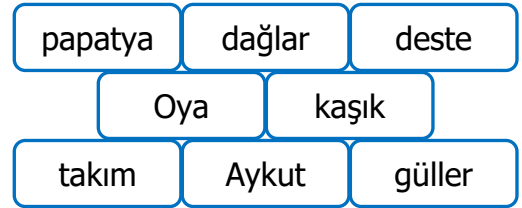
- A) Şimşek hızıyla düşen kalemi yakaladı.  
B) Oyuncağının kırılmasına o kadar üzüldü ki göz yaşları sel gibi aktı.  
C) Evde dünya kadar işe uğraşmaktan bıktım.

- 26) ★ Rize'liler çay toplamaya gittiler.  
■ Ağrı dağının muhteşem görüntüsüne hayran kaldık.

Yukarıda cümlelerin yazımında yapılan yanlışlıklar hangi seçenekte verilmiştir?

- ★  
■
- A) Büyük harf kullanımı Virgül kullanımı  
B) Kesme işareti kullanımı Büyük harf kullanımı  
C) Büyük harf kullanımı Kesme işareti kullanımı

- 27)



Yukarıdaki şemada verilen adlarla ilgili aşağıdakilerden hangisi söylenemez?

- A) 2 özel ad var.  
B) 2 topluluk adı var.  
C) 3 tekli ad var.


- 28) Hangi cümledeki altı çizili sözcük bir ek alarak yeni anlam kazanmıştır?

- A) Babam bahçeye yeni bir çiçeklik yaptı.  
B) Bu aylarda havalarda genellikle yağmurlu geçer.  
C) Berke'ye dedesi yeni bir bisiklet aldı.

### 3.Sınıflar Deneme Sınavı

14 Soru

### MATEMATİK

29)  748 doğal sayısı 7 yüzlük, 4 onluk ve 8 birlikten oluşur.

Can



Özge

905 doğal sayısı 9 yüzlük 5 onluktan oluşur.



Efe

311 doğal sayısı 1 birlik, 1 onluk 3 yüzlükten oluşur.

Yukarıdaki öğrencilerden hangisinin ifadesi yanlıştır?

- A) Can      B) Özge      C) Efe

30) Hangi seçenekte verilen sayıların en yakın yüzlüğü aynı sayıdır?

- A) 

288	364
-----	-----

  
B) 

450	430
-----	-----

  
C) 

363	448
-----	-----

31)

- |     |     |
|-----|-----|
| 543 | 545 |
| 554 | 546 |

Yukarıda verilen sayıları büyükten küçüğe doğru sıraladığımızda 2.sırada hangi sayı olur?

- A) 546      B) 554      C) 545

32)

$$\begin{array}{r} AB \\ + CD \\ \hline \end{array} \quad \begin{array}{r} 50 + \blacksquare \\ + \star + 4 \\ \hline 80 + 10 = 90 \end{array}$$

Yukarıda zihinden yapıışı gösterilen işlemde  $\star$  ve  $\blacksquare$  gösterilen sayıların toplamı kaçtır?

- A) 36      B) 28      C) 30

33) Aşağıda verilen çarpma işlemlerinin hangisinde yanlıştır yapılmıştır?

- A) 

39
x 23
117
+ 78
897

      B) 

48
x 18
384
+ 48
864

      C) 

27
x 28
216
+ 44
656

34)

$$\begin{array}{r} 73 \overline{) 6} \\ - \quad \blacktriangle \\ \hline \blacksquare \end{array}$$

Yukarıdaki bölme işlemimde  $\blacktriangle$  ve  $\blacksquare$  ile gösterilen sayılar, hangi seçenekte doğru verilmiştir?

- |                  |                |
|------------------|----------------|
| $\blacktriangle$ | $\blacksquare$ |
|------------------|----------------|

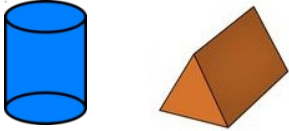
  
A) 11      2  
B) 12      1  
C) 13      3

35) Egemen, aldığı 72 sayfalık kitabın  $\frac{1}{6}$ 'ini okudu. Egemen'in okuyacağı kaç sayfa kaldı?



- A) 54      B) 58      C) 60

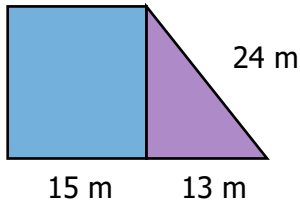
36)



Yukarıdaki geometrik cisimlerin yüz ve ayrıt sayıları toplamı kaçtır?

- A) 19      B) 17      C) 15

37)



Yukarıdaki bahçe kare ve üçgen şeklinde iki bölümden oluşur. Buna göre bahçenin çevre uzunluğu kaç cm'dir?

- A) 88m      B) 90 m      C) 82 m

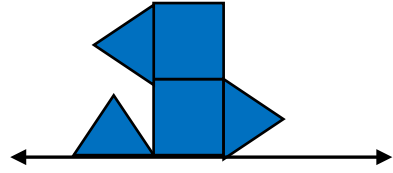
38)



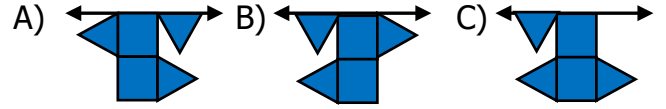
Yukarıdaki açıların türü, hangi seçenekte sırasıyla verilmiştir?

- I      II  
A) Dar açı      Geniş açı  
B) Dik açı      Doğru açı  
C) Doğru açı      Geniş açı

39)



Yukarıdaki şeklin doğruya göre simetriği hangisidir?



40)

Erzurum - Kalkış

Van - Varış



Yukarıda bir otobüsün iki şehir arasındaki kalkış ve varış saatleri verilmiştir. Buna göre Erzurum'dan Van'a kaç dakikada gitmiştir?

- A) 365 dk      B) 375 dk      C) 385

41)

★ 140 cm = 1 m 4 cm

▲ 504 cm = 5 m 4 cm

■ 3 m 25 cm = 325 cm

Yukarıda verilen eşitliklerden hangileri doğrudur?

- A) ▲ ■      B) ★ ■      C) ▲ ★

42)

Bir köylü pazara götürdüğü 56 kg çileği 7 sepete eşit olarak koydu. Sepetlerin tanesini 32 TL'ye sattı. Köylü 1 kg çileği kaç TL'ye satmıştır?

- A) 6 TL      B) 4 TL      C) 3 TL

### 3.Sınıflar Deneme Sınavı

14 Soru

#### FEN BİLİMLERİ

43) Dünya'nın yuvarlak olduğunu ispatlamak için çıkmış olduğu deniz yolculuğunda hayatını kaybetti.

Yukarıda bahsedilen kişi kimdir?

- A) Pisagor
- B) Macellan
- C) Galileo

44) Mert, annesinin yaptığı pizzanın kokusuna dayanamadı. Mutfağa giderek pizzanın tadına baktı.



Mert pizzayı yerken hangi duyu organlarını kullanmıştır?

- A) dil – burun - göz
- B) kulak – dil - burun
- C) dil – göz - kulak

45) Aşağıdaki eşleştirmelerden hangisi yanlıştır?

- A) Ağaçtan düşen elma - Hızlanma hareketi
- B) Viraja giren araba - Yön değiştirme hareketi
- C) Kale direğine çarpan top - Dönme hareketi

46) PÜRÜZLÜ

.....

1

PÜRÜZSÜZ

.....

2

Yukarıdaki kutularda belirtilen maddenin özelliklerine sırasıyla hangileri yazılmalıdır?

1

2

- A) Araba lastiği - cam
- B) Ayna - bilgisayar ekranı
- C) Ceviz kabuğu - halı

47)

★	▲	■
• Yıldız • Ay • Fener	• Ateş böceği • Güneş • Şimşek	• Meşale • Mum • Güneş











Yukarıda verilenlerin tümü doğal ışık kaynaklarına örnektir?

- A) ★
- B) ▲
- C) ■







48) Aşağıdakilerden hangisi tüm canlıların ortak özelliklerinden biri değildir?

- A) Solunum yaparlar.
- B) Çoğalırlar.
- C) Kendi besinlerini üretirler.

- 49) I. Üzerinde birçok canlı yaşar.  
II. Dünyanın etrafını ince bir battaniye gibi sarar.  
III. Taş, toprak ve kaya gibi maddelerden oluşur.  
Yukarıda verilen ifadelerden hangileri kara katmanına aittir?
- A) Yalnız I    B) I ve III    C) II ve III

- 50)  Konuşmamızı yardımcı olur.  
 Besinlerin yutulmasını sağlar.  
 Soluk alırken havadaki tozlardan korur.  
Yukarıdakilerden hangileri dilin görevlerindedir?
- A)      B)      C)   

- 51) Aşağıda maddenin gaz hali ile ilgili verilen bilgilerden hangisi yanlıştır?
- A) Sıkıştırılabilirler.  
B) Genellikle etkileriyle ayırt edilirler.  
C) Belirli bir şekilleri vardır.

- 52)  Prizden fişi çıkarmak  
 Şemsiyeyi açmak  
 Topa vurmak  
Yukarıda verilen olaylarda uygulanan kuvvet türü hangi seçenekte doğru verilmiştir?
-         
- A) çekme – itme - çekme  
B) çekme – itme - itme  
C) itme – çekme - çekme

- 53) Aşağıda ses ile ilgili verilen bilgilerden hangisi yanlıştır?
- A) Ses çıkaran her şey ses kaynağıdır.  
B) İşitme duyu organımız kulaktır.  
C) Kaynağından uzaklaştıkça sesin şiddeti artar.



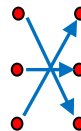
54)

Doğal Çevre	Yapay Çevre
1) mağara	3) göl
2) park	4) baraj

- Yukarıdaki tabloda verilen hatayı düzeltmek için kaç numaralı kutular yer değiştirmelidir?
- A) II ve III    B) I ve III    C) I ve IV

- 55)
- |            |   |   |                 |
|------------|---|---|-----------------|
| kumanda    | • | • | akü             |
| televizyon | • | • | pil             |
| kamyon     | • | • | Şehir elektriği |

Yukarıdaki araçlarla kullandıkları enerji kaynaklarının doğru eşleştirmesi nasıl olmalıdır?

- A)     B)     C) 

- 56) Aşağıdaki ifadelerden hangisi yanlıştır?
- A) Elektrikli aletler çalışırken taşınmaz.  
B) Yıpranmış kabloları kullanmamalıyız.  
C) Kopmuş elektrik tellerini elimizle tutarak bulunduğu ortamdan kaldırmalıyız.



**HAYAT**

1) C

2) C

3) A

4) B

5) C

6) A

7) A

8) B

9) A

10) C

11) A

12) C

13) B

14) A

**TÜRKÇE**

15) B

16) C

17) B

18) C

19) A

20) B

21) C

22) A

23) C

24) C

25) B

26) B

27) C

28) A

**MAT**

29) B

30) C

31) A

32) A

33) C

34) B

35) C

36) B

37) C

38) A

39) B

40) C

41) A

42) B

**FEN**

43) B

44) A

45) C

46) A

47) B

48) C

49) B

50) A

51) C

52) B

53) C

54) A

55) B

56) C