

Türkçe : 15 sorudan oluşmaktadır.

1.



Yukarıda görselleri verilen varlıkların adlarını sözlük sırasına göre dizdiğimizde 3.sıradaki hangisi olur?

A)



B)



C)



2.

"İyi bir dinleyici"

Yukarıdaki cümle aşağıdaki ifadelerden hangisi ile tamamlanamaz?

- A) dinlerken başka şeylerle meşgul olmaz. B) konuşmacının sözünü kesmez.
C) konuşan kişi ile göz teması kurmaktan kaçınır.

3.

ağır	↔	zayıf	①
şişman	↔	hafif	②
iri	↔	ufak	③

Yan taraftaki zıt anlamlı sözcükler eşleştirmesinde hata yapılmıştır. Hatanın düzeltilmesi için kaç numaralı sözcükler yer değiştirmelidir?

- A) 1 ve 3 B) 1 ve 2 C) 2 ve 3

4.

Dalsarkarkartalkalkarkartalkalkardalsarkar.

Yukarıdaki tekerlemede sözcükler arası boşluk bırakılmamış. Sözcükler arası 1 kare boşluk bırakılması gerektiğine göre bu tekerleme için kaç kare boşluk gerekir?

- A) 6 B) 7 C) 8

5.

Üşüyorum. ①

Okulumu. ②

Zil çaldı. ③

Yukarıda verilenlerden hangileri cümledir?

- A) 1 ve 3 B) Yalnız 3 C) 1, 2 ve 3

Türkçe : 15 sorudan oluşmaktadır.

6.

Ellerimizi sık sık yıkamalıyız



Akşam yemeğini yediniz mi



Yarışmada kaçınıcı oldun



Yan taraftaki cümlelerin hangisinin sonuna diğerlerinden farklı bir noktalama işareti konulmalıdır?

A)

B)

C)

7.

Cumartesi günü Elif() Ahmet ve ben sinemaya gideceğiz() Biletlerimiz 2() sıradan alındı() Sen de bizimle gelir misin()

Yukarıdaki paragrafta kaç nokta kullanılmalıdır?

A) 5

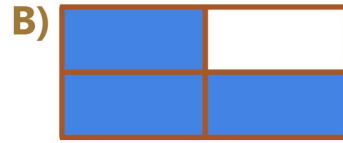
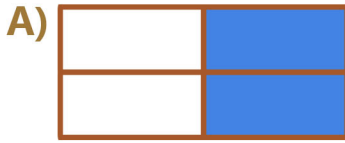
B) 4

C) 3

8.

filim	yalnız
perşembe	tiren

Yukarıda verilen sözcüklerden yazım yanlışı yapılanları boyadığımızda hangi seçenek ortaya çıkar?



9.

Aşağıdaki cümlelerin hangisinde yazım yanlışı yapılmıştır?

A) Ankaralı Mehmet'in başına güneş geçmiş.

B) Elifler akşam bize gelecek.

C) Bu yaz Van Göl'üne gideceğim.

10.

Aşağıdaki atasözlerinden hangisi tasarrufla ilgili değildir?

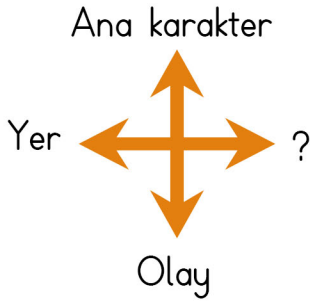
A) Ak akçe, kara gün içindir.

B) Nerede hareket, orada bereket.

C) Ayağını yorganına göre uzat.

Türkçe : 15 sorudan oluşmaktadır.

11.



Yan taraftaki şemada "Hikaye Unsurları" verilmiştir. Buna göre verilmeyen hangisidir?

- A) Başlık B) Zaman C) İçindekiler

12.

İyilik yap denize at
İyilikten yap bir kat
Fayda vermez ne ev ne yat
İyilik yap, iyilik gör

Yardım etsen yaşlılara
Fakir, dertli başlılara
Gözü her gün yaşlılara
İyilik yap iyilik gör

Metindeki konuyu en kısa yoldan anlamamızı sağlayan kelime veya kelime grubuna "anahtar sözcükler" denir.

Buna göre yan taraftaki şiirin anahtar sözcüğü hangisi olabilir?

- A) İyilik B) Fakir C) Yaşlı

13.

birdenbire	aniden
acemi	usta
nihayet	son

Hangi renkteki kelime çifti anlam ilişkisi yönünden diğerlerinden farklıdır?

- A) B) C)

14.

Çocuğu ders

Durumları, olayları sebep ve sonuçlarıyla anlatan cümleler sebep-sonuç cümleleridir. Buna göre yukarıdaki cümleyi hangisiyle tamamlarsak sebep-sonuç cümlesi olmaz?

- A) çalışma yöntemini bilmiyor. B) çalışsın diye televizyonu kapattı.
C) çalıştığı için parkta oynamasına izin verdi.

15.

Onu görünce içim içime sığmıyordu.

Cümlesinde altı çizili sözcüklerin cümleye kattığı anlam hangi seçenekte doğru verilmiştir?

- A) çok korkmak B) çok üzölmek C) çok sevinmek

Hayat Bilgisi : 15 sorudan oluşmaktadır.

16.



Sınıf içindeki etkinliklere katılırken nelere dikkat etmelisiniz?

Ayşe'nin sorusuna en uygun cevap aşağıdakilerden hangisidir?

A)



Grup içinde üstlendiğimiz görevleri arkadaşımıza yaptırmalıyız.

B)



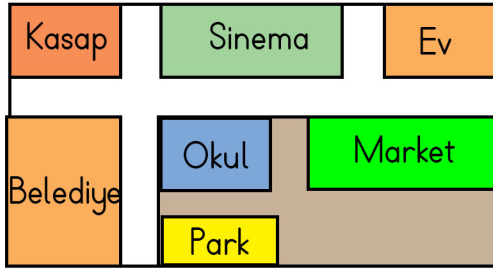
Grup çalışmalarında iş birliği yapmamıza gerek yoktur.

C)



Arkadaşlarımıza kibar ve saygılı davranmalıyız.

17.



Yandaki krokide okulun çevresi ile ilgi verilen bilgilerden hangisi doğrudur?

A) Okulun yanında ev bulunmaktadır.

B) Belediyeye en uzak bina sinemadır.

C) Okuldan eve giderken önce markete, sonra karşıya geçilip eve varılabilir.

18.

★ Mahalle ismi

■ Bina numarası

● Binanın kaç katlı olduğu

Yandaki bilgilerden hangileri ev adresimizde bulunur?

A) ★

B) ★ ■

C) ★ ■ ●

19.



Yandaki görselde sorumluluk bilinci olan Elif'in konuşması nasıl olmalıdır?

A) Anne, sen yemek yaparken ben oyun oynayabilir miyim?

B) Anne karnım çok aç, ne yemeği yaptın?

C) Anne, sofrayı hazırlamana yardım edeyim mi?

Hayat Bilgisi : 15 sorudan oluşmaktadır.

20.

1. Açıkta satılan yiyecek ve içeceklerden almak.
2. Dinlenmeye yeterince vakit ayırmak
3. Kişisel bakımımıza dikkat etmek.

Yandaki bilgilerden kaç tanesi sağlıklı büyüme ve gelişme için gereklidir?

A) 1

B) 2

C) 3

21.

Aşağıdakilerden hangisi çevre temizliğiyle ilgilidir?

A) Kıyafetimizi temizlemek.

B) Tuvaletleri kullandıktan sonra temiz bırakmak.

C) Tuvaletten önce ve sonra ellerini sabunla yıkamak.

22.

Aşağıdaki taşıtları, taşıt türlerine göre gruplayacak olsak hangisi grup dışı kalır?

A)



B)



C)



23.

Evimizde ve okulumuzda kullandığımız teknolojik araç ve gereçler

Yukarıdaki cümleyi en uygun nasıl tamamlayabiliriz?

A) yaşantımızı zorlaştırır.


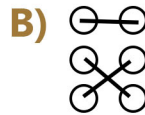

B) aile bağlarını güçlendirir.

C) yaşantımızı kolaylaştırır.

24.

İtfaiye	<input type="radio"/>	<input type="radio"/>	156
Jandarma	<input type="radio"/>	<input type="radio"/>	122
AFAD	<input type="radio"/>	<input type="radio"/>	110

Yandaki acil yardım kurumlarıyla telefonları eşleştirildiğinde hangi seçenekteki görünüm ortaya çıkar?



25.

- Hayvanlardan süt elde edilmesi
- ▲ Toprağa mısır ekilmesi
- Domatesten salça elde edilmesi

Yandaki bilgilerden hangileri tarımsal bir faaliyettir?

A) ▲

B) ▲●

C) ■▲●

Hayat Bilgisi : 15 sorudan oluşmaktadır.

26. Şemsi Efendi İlkokulu
 Selanik Askeri Ortaokulu
 Mahalle Mektebi
- Yandaki Atatürk'ün gitmiş olduğu okulları, okula gitme sırasına göre sıralarsak hangi seçenekteki görünümü elde ederiz?

A) 2
 3
 1

B) 1
 3
 2

C) 1
 2
 3


27. 1. Anlayışlı olmalıyız.
2. Yaşam tarzlarına ve alışkanlıklarına saygı duymalıyız.
3. Onları kendi grubumuzdan uzak tutmalıyız.

Yukarıdaki hangi bilgiler, ülkemize göç eden insanlara karşı doğru davranış biçimidir?

A) 1

B) 1 ve 2

C) 1, 2 ve 3



28. 
- Yanda verilen bir tohumun bitki olabilme aşamalarını doğru bir şekilde sıralarsak hangi sıralama olur?



A) 2-1-4-3

B) 2-4-1-3

C) 4-1-3-2

29. 
- Yandaki şemaya göre hayvanlar gruplandırılmıştır. Bu gruplamaya göre hangi seçenekteki eşleştirme doğrudur?

A)  → İnek
 → Tavuk

C)  → Aslan
 → Kartal

B)  → Koyun
 → Sığır

30. Toprak ve kayaların büyük parçalar hâlinde yamaçlardan aşağı sürüklenmesi ile oluşan doğal afet hangisidir?

A) Deprem

B) Heyelan

C) Fırtına

Matematik : 15 sorudan oluşmaktadır.

31. 52 sayısının onlar basamağı 3 artar, birler basamağı 5 azalırsa yeni sayı kaç olur?

A) 77

B) 87

C) 27

32. 18 22 26 28 34 38

Yukarıdaki ritmik saymada örüntüyü bozan sayı için ne yapılırsa yanlışlık giderilmiş olur?

A) 4 artırılmalıdır.

B) 1 azaltılmalıdır.

C) 2 artırılmalıdır.

33. $\blacksquare - 12 = 20$ olduğuna göre " $\blacksquare - \blacktriangle$ " işleminin sonucu kaçtır?

$$\blacktriangle - 14 = 12$$

A) 10

B) 8

C) 6


34. $16 < \text{Ahmet'in yaşı} < 24$
 $\text{Mehmet'in yaşı} = 18$

Yanda verilen bilgilere göre Ahmet ile Mehmet'in yaşları toplamı en fazla kaç olabilir?

A) 42

B) 41

C) 35

35.  Bir sınıfta 2 düzine sıranın her birinde 2 öğrenci oturmaktadır.
Bu sınıftan 3 öğrenci ayrılırsa sınıfın mevcudu kaç olur?

A) 45

B) 37

C) 48

Matematik : 15 sorudan oluşmaktadır.

36.

36 : 4	18 : 2
24 : 4	32 : 4

 Tablodaki işlemlerin sonuçları hangi seçenekte doğru olarak verilmiştir?

A)

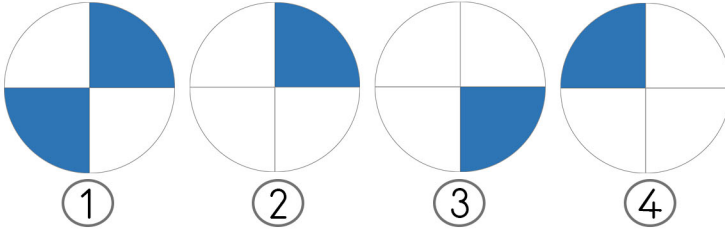
9	9
6	8

B)

9	6
6	9

C)

8	9
6	9


37. 

Hangi numaralı şekilleri bir araya getirirsek boyalı alanlar bir bütün oluşturur?

A) 3 ve 4

B) 1 ve 3


C) 1, 3 ve 4

38.  Yan taraftaki saat şu anki saati gösteriyorsa 2 saat sonra saat kaç olur?

A) Dokuzu çeyrek geçiyor.

B) Sekize çeyrek var


C) Dokuz çeyrek var.

39.  Yarım saatte 15 soru çözen Fatih, 2 saatte toplam kaç soru çözer?

A) 30

B) 60

C) 120

40.  Yandaki cetvele göre kalemin boyu ile silginin boyları toplamı kaç cm'dir?

A) 8cm

B) 9cm

C) 11cm

Matematik : 15 sorudan oluşmaktadır.

41.

$$\begin{array}{r} \blacksquare \blacktriangle \\ + \blacktriangle \blacktriangle \\ \hline 80 \end{array}$$

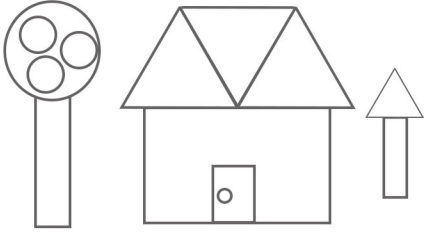
Yandaki işlemde \blacksquare şekli hangi rakama karşılık gelmektedir?

A) 1

B) 2

C) 3

42.



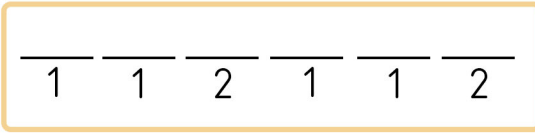
Yandaki görselde hangi geometrik şekil daha fazladır?

A) Üçgen

B) Çember

C) Dikdörtgen

43.



Her rakam farklı bir geometrik şekli, benzer rakamlar ise geometrik şeklin tekrar ettiğini gösteriyor. Buradaki dizilime göre oluşabilecek geometrik örüntü hangisidir?

A) $\square \square \bigcirc \square \square \bigcirc$ B) $\bigcirc \square \bigcirc \square \bigcirc \square$ C) $\triangle \triangle \bigcirc \bigcirc \triangle \triangle \bigcirc \bigcirc$

44.

Grafik: 2.Sınıfların Mevcut Sayıları

2-A	2-B	2-C	2-D

(Her şekil 5 öğrenciyi gösterir)

Yandaki grafiğe göre aşağıdakilerden hangisi doğrudur?

A) En kalabalık sınıfta 5 öğrenci vardır.

B) 2-D ve 2-C sınıflarının mevcutları arasındaki fark 1'dir.

C) En kalabalık sınıf ile en az öğrenci olan sınıf arasındaki fark 15'dir.

45.

Bir bakkal 50kg şekerin 29kg'ını satıyor. Geriye kalan şekeri 3kg'lık poşetlere tartarak dolduruyor. Buna göre bakkal kaç poşet kullanmıştır?

A) 6

B) 7

C) 8