

Türkçe : 10 sorudan oluşmaktadır.

1.

çilek

?

gazete

Yukarıdaki sözcükler alfabetik olarak sıralandığına göre "?" yerine aşağıdaki sözcüklerden hangisi yazılabilir?

A) beşik

B) demir

C) lale

2.

Aşağıdaki sözcüklerin alfabetik sıralamalarından hangisinde yanlışlık yapılmıştır?

A) vazo - yastık - zil

B) deniz - bakır - gül

C) koltuk - masa - sandalye

3.

traktör 1

arı 2

spor 3

Yukarıdaki sözcüklerden hangileri iki heceli bir sözcüktür?

A) 1 ve 2

B) 2 ve 3

C) Sadece 2

4.

salata

lahana

mesela

Yukarıda verilen sözcüklerde ortak kullanılan hece hangisidir?

A) la

B) al

C) sa

5.

Cümle ile ilgili verilen bilgilerden hangisi yanlıştır?

A) Bir metinde ilk noktadan sonra ikinci cümle başlar.

B) Bir cümle içerisinde büyük harfle başlayan sözcükler olabilir.

C) Bir cümle en az iki sözcükten oluşur.

Türkçe : 10 sorudan oluşmaktadır.

6.

acemi



çırak



usta



Yukarıdaki sözcüklerden hangisi diğer iki sözcüğün de zıt anlamlısıdır?

A)

B)

C)

7.

veteriner	hekim
hakim	doktor

Yukarıdaki sözcüklerden eş anlamlı olanlarını boyadığımızda hangi seçenekteki görüntü oluşur?



8.

"kedimiz sarman için marketten mama alacağız."

Yukarıdaki cümleyi yazarken kaç tane hata yapılmıştır?

A) 1

B) 2

C) 3

9.

Üşüdüm

Bugün arkadaşımınla top oynamak

Yolda Ayşe'yi gördüm

Yukarıdaki ifadelerin hangisinin sonuna nokta konmaz?

A)

B)

C)

10.

Hafta sonu Ayşe()nin dedesi() teyzem ve dayım bize mi gelecek()




Yukarıdaki cümlede parantez içlerine sırasıyla hangi noktalama işaretlerini koymalıyız?

A) (')(,)(?)


B) (,)(,)(.)

C) (')(,)(.)

Hayat Bilgisi : 10 sorudan oluşmaktadır.

11.  Oyunda kazanan arkadaşlarımızı kutlamalıyız.
 Kulüp faaliyetlerine katılan bir öğrenci tek başına çalışmanın önemini kavramıştır.
 Bize kaba davrananlarla kavga etmeliyiz.

Yukarıdaki ifadeler doğruysa yanlarındaki kalbi yeşile, yanlışsa kırmızıya boyadığımızda hangi seçenek doğru olur?



12.

Yukarıdaki değerlerden kaç tanesi aileyi bir arada tutan değerlerdendir?

A) 4

B) 3

C) 2

13.

Sağlıklı bir hayat için yukarıdakilerden hangileri yapılmalıdır?

A) 2

B) 2 ve 3

C) 1 ve 2

14.

Yukarıdaki boşluğa uymayan sözcük hangisidir?

A) Televizyonun

B) Bilgisayarın

C) Oyuncakların

Hayat Bilgisi : 10 sorudan oluşmaktadır.

15.



Verilen görsellerden hangileri çocuklar için tehlikelidir?

A)  B) C)  

16.

Kurallara uymayan bir öğrenci aşağıdaki davranışlardan hangisini yapar?

A) Trafik ışıklarının olduğu yerden karşıya geçer.

B) Taşıtların arasından yola çıkıp karşıya geçer.

C) Asansör düğmelerine gereksiz yere basmaz.

17.

İli yönetir.
İlçeyi yönetir.
Köyü yönetir.

Yan taraftaki cümlelerde boşlukları sırasıyla hangi sözcüklerle tamamlayabiliriz?

A) vali / kaymakam / muhtar

B) vali / muhtar / kaymakam

C) kaymakam / vali / muhtar

18.

Bayrağımızla ilgili verilen bilgilerden hangisi yanlıştır?

A) Üzerinde ay ve yıldız bulunur.

B) Ay ve yıldız beyaz renktedir.

C) Zemini beyaz renktedir.

19.

Aşağıdaki hayvanlardan hangisinin barınağı ağıldır?

A) B) C) 

20.

Aşağıdaki bilgilerden hangisi doğrudur?

A) Dünya'ya en yakın gök cismi Ay'dır.


B) Dünya Güneş'ten daha büyüktür.

C) Sonbaharda ağaçlar çiçek açar.

Matematik : 10 sorudan oluşmaktadır.

21.

1	2	3
4	5	6
7	8	9



$$\dots + \dots + \dots = \dots?$$

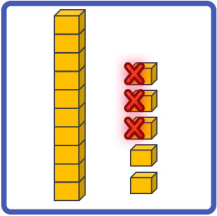
Sayı kutusundaki kırmızı renkli sayıdan başlayarak ok yönünde ilerleyin. Elde ettiğiniz üç sayının toplamı kaçtır?

A) 20

B) 17

C) 15

22.



$$\dots - \dots = \dots?$$

Yukarıda onluk taban bloklarıyla modellenen çıkarma işlemi hangisidir?

A) $15 - 3 = 12$ B) $12 - 3 = 9$ C) $10 - 3 = 7$

23.

12'den sonra gelen sayı ile 6'yı toplarsak sonuç için ne söyleyebiliriz?

A) 19'dan büyük bir sayıdır.

B) 20'den küçük bir sayıdır.

C) 18'dir.

24.

Geçen sene 12 yaşında olan Emel, 8 sene sonra kaç yaşında olur?

A) 21

B) 20

C) 19

25.

4	+	6	=
bütün		yarım		bütün


Yukarıdaki işleme göre noktalı yere kaç yazılmalıdır?


A) 6

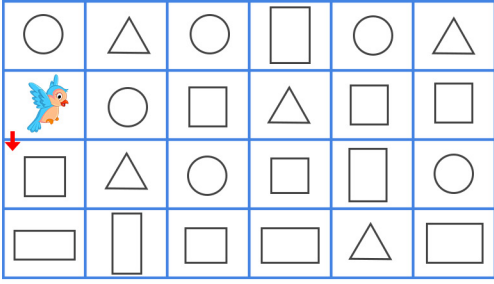

B) 10

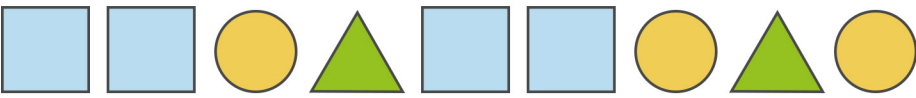



C) 7


Matematik : 10 sorudan oluşmaktadır.

26.  Yandaki saat 7 buçuk olduğuna göre saatin akrebinin yeri neresi olmalıdır?
- A) 7 ile 8 arasında B) 6 ile 7 arasında C) 7'nin üzerinde

27.  Yandaki görselde kaç tane çember kullanılmıştır?
- A) 6 B) 8 C) 7

28.   Tablodaki kuş, sadece dört köşeli geometrik şekilleri takip ederse kaç numaralı yuvaya ulaşır?
- A) 1 B) 2 C) 4

29.  Yukarıdaki geometrik örüntüyü bozan şekil hangisidir?
- A)  B)  C) 

30.  Yan tarafta verilen bardaklardaki sıvı miktarlarının çok olandan az olana doğru sıraladığımızda 4.sıradaki bardak hangisi olur?
- A) O B) L C) N