

Türkçe : 10 sorudan oluşmaktadır.

.....

Her gün sana koşarım  
Neşe, bilgi verirsin.  
Öğrettiğin şeylerle,  
Hayatta yükselirim.

Işıkly yollarından,  
Yürüyoruz hepimiz.  
Okulum sen olmasan,  
Ulusca gerileriz.

Afire Hancı

İlk 2 soruyu yukarıdaki şiire göre cevaplayınız.

1. Yukarıdaki şiirin başlığı ve konusu hangi seçenekte verilmiştir?

A)

Başlık	Konu
Okulum	Okul

B)

Başlık	Konu
Öğretmenim	Okul

C)

Başlık	Konu
Okul	Bilgi

2. Aşağıdaki görsellerden hangisi şiirle ilgili değildir?



3. Aşağıdaki ifadelerden hangisinde hayal unsuru yoktur?

- A) Uçağımız bulutların üzerinde uçuyor.  
B) Çok istediğim oyuncakları odamda görünce adeta bulutların üzerinde gezdim.  
C) Bir gün mutlaka süpermen olacağım.

Türkçe : 10 sorudan oluşmaktadır.

4. Aşşeler bahçelerinde elma armut ve kiraz yetiştirmektedir

Aşağıdaki noktalama işaretlerinden hangisi üstteki cümlede unutulmuş noktalama işaretlerinden biri değildir?

A) ( ' )

B) ( , )

C) ( . )

5. Yemeğimi yedim.

Eve geri dönüp topumu aldım.

Bir şey unuttuğumu fark ettim.

Sonra oyun oynamak için parka gittim

Yukarıdaki olayları oluş sırasına göre numaralandırdığımızda hangi seçenek doğru olur?

A) 

1
2
3
4

B) 

1
4
3
2

C) 

3
2
1
4

6. Aşağıdaki cümlelerin hangisinde yazım yanlış yapılmamıştır?

A) Sarman ile boncuk bir araya geldiklerinde hırçınlaşıyorlar.

B) Derslerine çok çalıştın değil mi?

C) Okul başvuruları 17 Aralık'a kadar sürecektir.

7. Yaz gelince Rize'de yaylalar dolmaya başlar.

Yukarıdaki olayda hangi hikaye unsuru belirtilmemiştir?

A) Zaman

B) Yer

C) Ana karakter

Türkçe : 10 sorudan oluşmaktadır.

8.

Bu su çok siğ görünüyor.

Su çok derin olduğu için boğulma tehlikesi yaşadık.

Yukarıdaki cümlelerde renkli yazılan sözcüklerdeki anlam ilişkisi hangi seçenekteki sözcüklerde de vardır?

A) icat - buluş

B) sağlam - bozuk

C) güz - sonbahar

9.

♥ Gözlerinin bozuk olması nedeniyle gözlük takıyordu.

♥ Yağmur yağdı, sonra güneş açtı.

♥ Arkadaşlarıma nazik davranırım bu yüzden çok seviliyorum.

Yukarıdaki cümlelerin hangisi sebep-sonuç cümlesidir?

A) ♥ ♥

B) ♥ ♥

C) ♥ ♥ ♥

10.

Aşağıdaki cümlelerin hangisinde yazım yanlışı yoktur?

A) Ahmet, 27 aralıkta doğdu.

B) Dün size misafirmi geldi?

C) Elacığım annene yardım etmen gerekiyor.

Hayat Bilgisi : 10 sorudan oluşmaktadır.

11.



Yukarıdaki görsellere bakarak hangi sonucu çıkarabiliriz?

- A) Herkes bir tiyatrodaki rol alabilir.  
 B) Herkes resim ve şarkı söyleyebilir.  
 C) Her insanın farklı yetenekleri vardır.

12.

amca	dayı	babaanne
teyze	hala	anneanne

Tablodaki kişilerden anne tarafında olanları sarı, baba tarafında olanları kırmızıya boyadığımızda hangi seçenek oluşur?



13.

dengeli      uyku      besinler      temizlik

- ✓ ..... mikropları yok eden en etkili yoldur.  
 ✓ Her çeşit besinden yeteri kadar alıp, ..... beslenmeliyiz.  
 ✓ En iyi dinlenme ..... ile olur.

Yukarıdaki cümlelerde boş bırakılan yerleri kutulardaki uygun sözcüklerle tamamladığımızda hangi sözcük boşta kalır?

- A) besinler      B) temizlik      C) uyku

## Hayat Bilgisi : 10 sorudan oluşmaktadır.

14. >> Yemeği büyük lokmalar halinde yemeliyiz.  
 >> Bulaşıcı hastalıklardan korunmak için maske kullanılmalı ve elleri sık sık yıkamalıyız.  
 >> Tuvalete girerken ve çıkarken ellerimizi sabunla yıkamalıyız.  
 >> Hapşırıırken elimize hapşirmalıyız.

Yukarıdaki ifadelerden kaç tanesi doğrudur?

A) 2

B) 3

C) 4

15. Otobüste yaşlı ve hamile olan (1) kişilere yer vermeliyiz. (A)  
 Karşıdan karşıya geçmekte zorlanan (2) güvenliğimiz içindir. (B)  
 Ulaşım araçlarında uymamız gereken kurallar (3) kişilere yardım etmeliyiz. (C)

Yukarıdaki ifadeleri anlamlı bir cümle olacak şekilde eşleştirdiğimizde hangi seçenek doğru olur?

A) 1-C  
 2-A  
 3-B

B) 1-A  
 2-B  
 3-C

C) 1-A  
 2-C  
 3-B

16. Selanik'te doğdu. Babasının adı Ali Rıza Efendî'dir. 10 Kasım 1938'de öldü.  
 Annesinin adı Zübeyde Hanım'dır. Asker olmayı istemiyordu.

Yukarıda verilen Atatürk ile ilgili ifadelerden kaç tanesi doğrudur?

A) 5

B) 4

C) 3

17.  keşkek  
 aşure  
 kadayıf

Yan taraftaki yiyeceklerden hangileri ülkemizde özel günlerde yapılır?

A)  B)  C)  

## Hayat Bilgisi : 10 sorudan oluşmaktadır.

18.

Canlılar, yaşamlarını sürdürebilmesi için ..... ihtiyaç duyarlar.

Yukarıdaki cümlede boş bırakılan yere aşağıdaki sözcüklerden hangisini yazamayız?

A) eğitime

B) suya

C) besine

19.

1.Köpek 2.İnek 3.Kuş  
4.Tavuk 5.Kedi

Yukarıdaki hayvanlardan hangileri hem et ile hem ot ile beslenirler?

A) 1 ve 5

B) 2 ve 4

C) 3 ve 4

20.

- Bitkiler olmadan diğer canlılar yaşayamaz.  
 Bitkiler, sadece hayvanların besin kaynağıdır.  
 Bitki ve hayvanlar doğaya zarar vermez.

Yukarıdaki ifadelerden doğru olanlara "D", yanlış olanlara "Y" yazdığımızda hangi seçenek doğru olur?

A)  D  
 D  
 YB)  D  
 Y  
 DC)  Y  
 Y  
 D

Matematik : 10 sorudan oluşmaktadır.

21. En yakın onluğa yuvarlandığında 240 olan sayı en çok kaç olabilir?

A) 244

B) 239

C) 245

22.

$$34 + \blacktriangle = 67$$

$$77 - \blacksquare = 49$$

Yukarıdaki işlemlere göre  $\blacktriangle - \blacksquare$  işleminin sonucu kaçtır?

A) 7

B) 6

C) 5

23. 22 TL'si olan Zümra, tanesi 3TL olan kalemlerden bir deste almak istiyor. Kalemleri alabilmesi için kaç TL'ye ihtiyacı vardır?

A) 8

B) 14

C) 10

24. 7 fazlası 21 olan sayının 2'ye bölümü kaçtır?

A) 14

B) 7

C) 10

25.

1 bütün + 4 çeyrek = ..... bütündür.

3 bütün + 4 yarım = ..... bütündür.

2 yarım + 8 çeyrek = ..... bütündür.

Yukarıdaki işlemlerde boş bırakılan yerlere sırasıyla kaç gelmelidir?

A) 2

B) 3

C) 2

5

5

4

3

3

5

## Matematik : 10 sorudan oluşmaktadır.

26. Yan taraftaki analog saatin öğleden sonraki dijital saat üzerinde gösterimi hangi seçenekte belirtilmiştir?






27. 1. Aralık ayı sonbahar mevsimindedir.  
2. Her mevsimde 3 ay vardır.  
3. En kısa süren ay mart ayıdır.

Yukarıdaki ifadelerden hangileri doğrudur?

A) 1 ve 3

B) 2 ve 3

C) Yalnız 2

28.  → 12TL  
 → 17TL  
 → 9TL

Yukarıdaki bilgilere göre cetvel ve defter alan bir kişi, kalem ve defter alan bir kişiden kaç TL fazla ödeme yapar?

A) 3TL

B) 20TL

C) 8TL

29.  Fatih  Melih

Aralarında 88m uzaklık bulunan iki arkadaşın Fatih, Melih'e doğru 29m yaklaşıyor. Melih ise Fatih'ten 18m uzaklaşıyor. Aralarındaki son durum için ne söylenebilir?

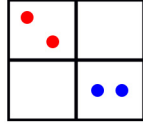
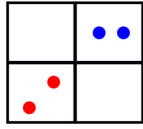
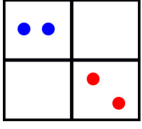
A) Birbirlerinden uzaklaşmışlardır. B) Birbirlerine yaklaşmışlardır.

C) Aralarındaki mesafe değişmemiştir.



Matematik : 10 sorudan oluşmaktadır.

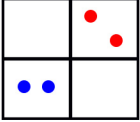
30.



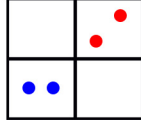
?

Yukarıdaki örüntü hangisi ile devam ettirilebilir?

A)



B)



C)

