

Geometrik Cisimler ve Şekiller

1. "Dört kenarı birbirine eşit olan geometrik şekle denir."

Yukarıdaki cümlede eksik bırakılan yeri hangi sözcük ile tamamlayabiliriz?

- A) kare B) üçgen C) dikdörtgen



5. Aşağıdakilerden hangisini kullanarak bir çember modeli çizebiliriz?

- A) B) C)



2. Aşağıdaki geometrik şekillerden hangisinin köşesi yoktur?

- A) B) C)

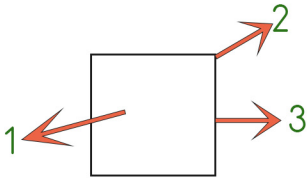


6. Aşağıdaki geometrik şekilleri gruplayacak olsak hangisi grup dışı kalır?

- A) B) C)



3. Yandaki geometrik şekilde hangi rakamın gösterdiği yer şeklin köşesidir?



- A) 1 B) 2 C) 3

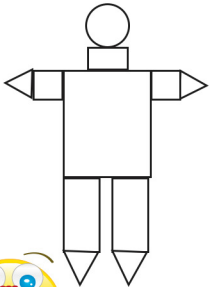


7. Aşağıdaki nesnelere küreye benzeyeni işaretleyiniz.

- A) B) C)



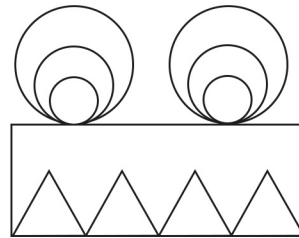
4. Yandaki robot şeklinde kaç tane üçgen kullanılmıştır?



- A) 2 B) 3
C) 4



8. Yandaki şekildeki geometrik şekillerin sayısını doğru gösteren seçenek hangisidir?



- A) Dikdörtgen :1 Üçgen :4 Çember :2
B) Dikdörtgen :0 Üçgen :4 Çember :2
C) Dikdörtgen :1 Üçgen :4 Çember :6