


Geometrik Örüntüler



Yukarıdaki geometrik şekiller bir kurala göre dizilmiştir. Buna göre son şekil hangisidir?




Yukarıdaki geometrik şekiller bir kurala göre dizilmiştir. Buna göre son şekil hangisidir?



Yukarıdaki geometrik şekillerin bir örüntü oluşturması için ne yapılmalıdır?


- A) 1 tane kırmızı çember eklenmelidir.
B) 3 tane çember eklenmelidir.
C) 1 tane dikdörtgen eklenmelidir.

4. Aşağıdaki geometrik şekillerden hangisi bir kurala göre dizilmiştir?




5. **Kural:** 1 üçgen, 2 çember, 1 kare


Yukarıdaki kurala göre dizilmiş geometrik örüntü hangisidir?



6. **Kural:** 2 kare, 1 çember, 1 üçgen

Yukarıdaki kurala göre dizilmiş geometrik örüntü hangisidir?



7.  Yan taraftaki şekiller sayılarla kodlanmıştır. Buna göre aşağıdaki geometrik örüntünün kodlandığı sayılar hangisidir?



- A) 1 - 2 - 3 - 3 B) 1 - 2 - 2 - 3
C) 3 - 2 - 1 - 1

8. 

Yukarıdaki örüntünün kuralı hangisidir?

- A) 1 kare, 1 çember, 1 üçgen
B) 1 kare, 1 çember, 2 üçgen
C) 1 kare, 1 çember, 1 üçgen, 1 çember

Geometrik Örüntüler


9.



Yukarıdaki örüntüyle benzer kurala sahip olan örüntü hangisidir?

- A)
 B)
 C)

10.



Yukarıdaki örüntüyü tamamlayan geometrik şekil hangisidir?

- A) B) C)

11.



1 2 3 4 5 6

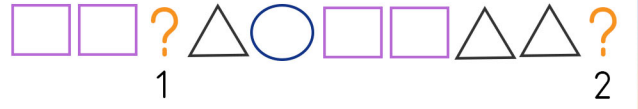
Yukarıdaki kare şekillerinin bir örüntü oluşturabilmesi için hangi karenin rengi değiştirilmelidir?

- A) 5 B) 6 C) 4

12. Aşağıdaki örüntülerden hangisi diğerlerinden farklıdır?

- A)
 B)
 C)

13.



Yukarıdaki örüntüyle ilgili verilen bilgilerden hangisi doğrudur?

- A) 1 numaralı geometrik şekil üçgendir.
 B) 2 numaralı geometrik şekil karedir.
 C) 2 numaralı geometrik şekil üçgendir.

14.

Aşağıdaki örüntülerden hangisinin kuralı 1 araba, 2 ağaç şeklindedir.

- A)
 B)
 C)

15.

Aşağıdakilerden hangisi bir örüntü değildir?

- A)
 B)
 C)

16.



Yukarıdaki örüntüyü devam ettirecek olsak sonraki 2 şekil hangisi olurdu?

- A) B)
 C)