
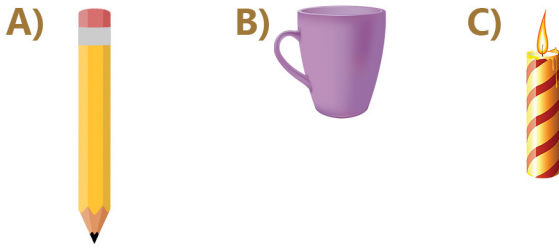


## Uzunluk Ölçme

1. Aşağıdaki varlıklardan en kısa olanı işaretleyiniz.



2. Aşağıdaki varlıklardan en uzun olanı işaretleyiniz.




Mavi kalem, kırmızı kalemden daha .....


Kalemlere bakarak yukarıdaki cümleyi hangi sözcükle tamamlamalıyız?

A) uzundur. B) kısadır. C) küçüktür.

4. Uzunluğu diğerlerinden farklı olan hangisidir?



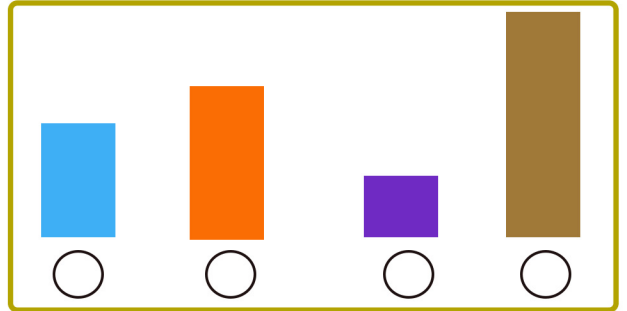
5.



Ağaçları kısıdan uzuna doğru sıraladığımızda numaraları hangi seçenekteki gibi olur?

A) 3-2-1-4 B) 1-2-3-4 C) 2-3-4-1

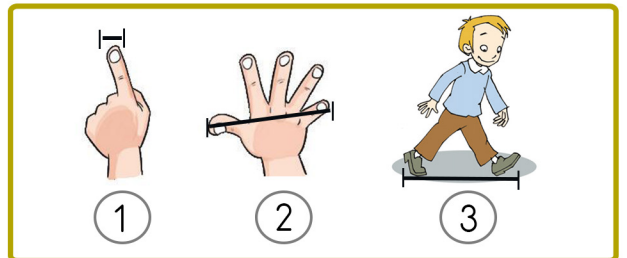
6.



Renkli şekilleri uzundan kısaya doğru sıraladığımızda numaraları hangi seçenekteki gibi olur?

A) 2-3-1-4 B) 4-3-2-1 C) 3-2-4-1

7.




Yukarıdaki şekilde gösterilen standart olmayan uzunluk ölçülerinin isimleri hangi seçenekte doğru verilmiştir?

A) 1-Parmak 2-El 3-Adım B) 1-Parmak 2-Karış 3-Adım C) 1-Tırnak 2-Karış 3-Ayak

## Uzunluk Ölçme

8.



Standart olmayan ölçme birimine göre masanın boyu ne kadardır?

- A) 6 karış B) 6 kulaç C) 6 parmak

9.



Yukarıdaki kalemin uzunluğunu silgiyle ölçtüğümüzde uzunluk için ne söyleyebiliriz?

- A) 4 kalem B) 1 silgi C) 4 silgi

10.



Yukarıdaki kalemlerin boyu tahmini olarak kaç silgi olur?

- A) 1 silgi B) 2 silgi C) 3 silgi

11.



Yukarıdaki arabanın boyu tahmini olarak kaç karış olur?

- A) 4 karış B) 3 karış C) 2 karış

12.

16 kulaç uzunluğundaki ipten 7 kulaç ip kesersek geriye kaç kulaç ip kalır?

- A) 9 kulaç B) 10 kulaç C) 23 kulaç

13.

Sınıfımızdaki masanın boyu Fatıma'nın karışıyla 6 karış geldiğine göre 2 masanın toplam boyu Fatıma'nın karışıyla kaç karış gelir?

- A) 6 karış B) 12 karış C) 10 karış

14.

Aşağıdaki standart olmayan uzunluk ölçme araçlarından hangisi en kısadır?

- A) karış B) kulaç C) adım

15.

Sınıfımızın duvarının boyu Esmenur'un adımıyla 5 adım gelmektedir. Esmenur'un 1 adımı, 5 karışına eşit olduğuna göre sınıfımızın duvarı Esmenur'un kaç karışına eşittir?

- A) 25 karış B) 5 karış C) 15 karış

16.

20 kulaç uzunluğundaki bahçe duvarının önce 8 kulacını, sonra 7 kulacını boyadık. Kaç kulaç daha boyarsak duvarın tamamını boyamış oluruz?

- A) 7 kulaç B) 5 kulaç C) 12 kulaç