


## Genel Matematik Soruları

1. 5 birlik + 3 onluk + 4 birlik + 7 onluk = ?

Yukarıda verilen sayı kaçtır?

- A) 109 B) 19 C) 82

2. Yandaki şeklin simetriği hangi seçenekte doğru verilmiştir?



- A)
- B)
- C)

3. 

3	6	4	7	5	8	
---	---	---	---	---	---	--

Yukarıdaki sayı grubu bir örüntüye göre dizildiğine göre son kutudaki sayı kaç olmalıdır?

- A) 6 B) 11 C) 10

4.

Yukarıdaki sayılar en yakın onluğa yuvarlandıktan sonra 3.sıradaki sayı kaç olur?

- A) 60 B) 30 C) 50

5. 15'den başlayıp 3'erli ritmik sayıldığında 50'den önce söylenecek en büyük sayı kaçtır?

- A) 48 B) 49 C) 50

6. Aşağıdaki toplama işlemlerinden hangisinin sonucundaki sayının onluğunun sayı değeri, birliğin yarısıdır?

- A)  $\begin{array}{r} 44 \\ + 24 \\ \hline \end{array}$  B)  $\begin{array}{r} 61 \\ + 23 \\ \hline \end{array}$  C)  $\begin{array}{r} 32 \\ + 16 \\ \hline \end{array}$

7. Aşağıdaki çıkarma işlemlerinden hangisinin sonucu 2 düzineden fazladır?

- A)  $\begin{array}{r} 76 \\ - 51 \\ \hline \end{array}$  B)  $\begin{array}{r} 91 \\ - 83 \\ \hline \end{array}$  C)  $\begin{array}{r} 37 \\ - 16 \\ \hline \end{array}$

8.  $\begin{array}{r} \blacksquare \blacktriangle \\ + \blacktriangle \blacktriangle \\ \hline 68 \end{array}$  Yandaki işlemde  $\blacksquare$  şekli hangi rakama karşılık gelmektedir?

- A) 4 B) 2 C) 3

9. 

a	12
	4 8
	1 3 5

b	?
	7 5
	6 1 4

 Yandaki "a" ve "b" şekillerindeki sayılar aynı kurala göre dizilmiştir.


"b" şeklindeki "?" yerine hangi sayı gelmelidir?

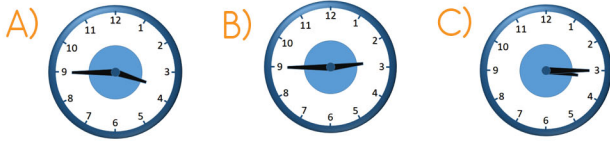
- A) 10 B) 35 C) 12


10. 7 yıl önce 23 yaşında olan bir kişi 13 yıl sonra kaç yaşında olur?

- A) 43 B) 29 C) 36


## Genel Matematik Soruları

11.  Şu anın saat karşılığını yandaki dijital saat göstermektedir. Buna göre 2 saat sonrayı gösteren analog saat aşağıdakilerden hangisidir?




12.  Bir çiftlikte 6 koyun, 7 tavuk vardır. Bu çiftlikteki hayvanların ayakları toplamı kaçtır?

A) 52 B) 38 C) 13

13.  Günün yarısını uyuyarak geçiren Elif, 5 günde kaç saat uyumuş olur?

A) 30 B) 60 C) 120

14.  2 paket çay 50 TL'dir. Buna göre 4 paket çay kaç TL'dir?

A) 100 B) 200 C) 80

15. 
$$\begin{array}{r} 15 \quad | \quad 2 \\ -14 \quad | \quad 7 \\ \hline 1 \end{array}$$
 Yan taraftaki bölme işlemiyle ilgili olarak aşağıdakilerden hangisi yanlıştır?

A) Bölen 7'dir. B) Bölünen 15'tir.  
C) Kalan 1'dir.

16.  ?

16 çeyrek, 4 yarım ekmek kaç tam ekmek eder?


A) 5 B) 7 C) 6

17. Nisan ayının 1. günü Çarşamba günü olduğuna göre 9.günü hangi gündür?

A) Perşembe B) Çarşamba C) Cuma

18. Dün Salı günü ise 4 gün sonrası için aşağıdakilerden hangisini söyleyebiliriz?

A) Haftanın ilk günüdür.  
B) Haftanın son günüdür.  
C) Okulun tatile girdiği gündür.

19.  Ayşe bir mağazan yan taraftaki elbiseyi almak istiyor. Ayşe'nin elinde 29TL'si olduğuna göre aşağıdakilerden hangisini söyleyebiliriz?

A) Elbise için ödeme yapıp 30TL para üstü alması gerekiyor.  
B) Ayşe'nin elbiseyi alabilmesi için para biriktirmesi gerekiyor  
C) Ayşe elindeki parasıyla 2 elbise alabilir.